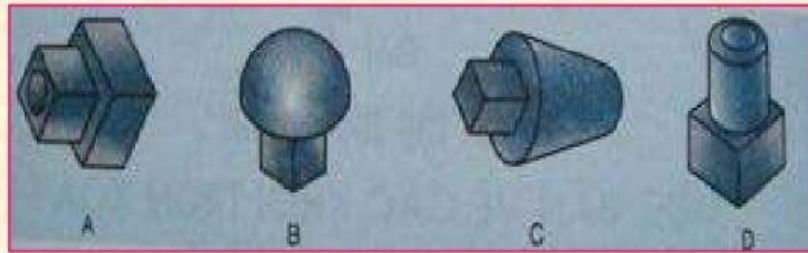


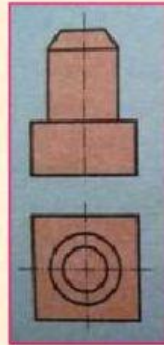
# CN 8 Thực hành: Đọc bản vẽ các khối đa diện và khối tròn xoay

? Hình 1, 2, 3, 4 là hình chiếu của vật thể nào?

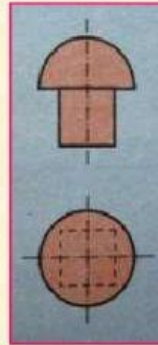
VẬT THỂ A, B, C, D



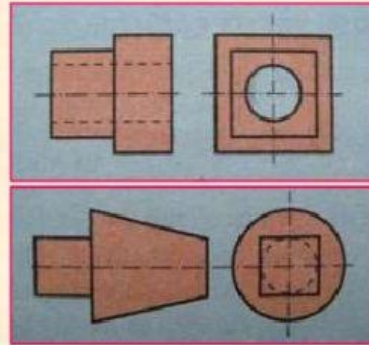
Vết thố \ Bản vẽ	A	B	C	D
Hình 1				
Hình 2				
Hình 3				
Hình 4				



H. 1



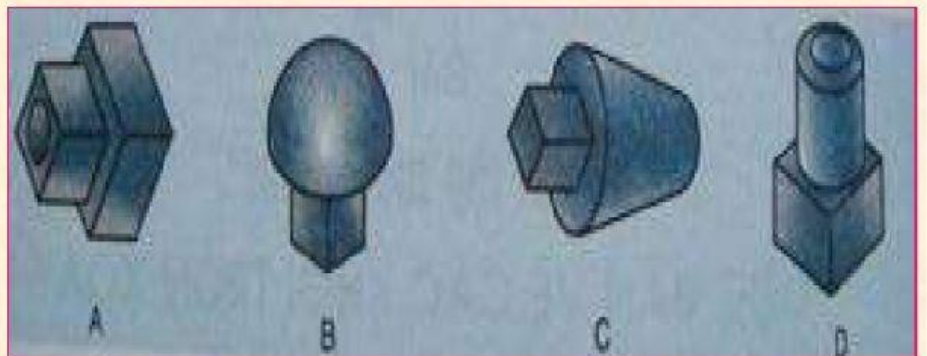
H. 2



H. 3

H. 4

? Em hãy cho biết tên của vật thể A, B, C, D?



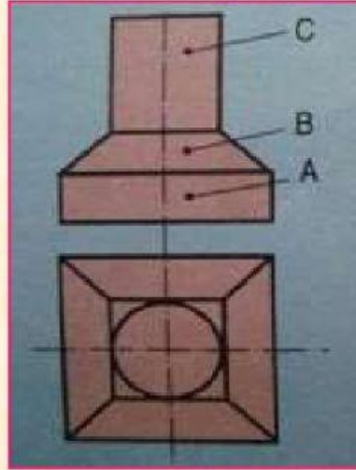
Vật thể	A	B	C	D
Khối hình Hộp				
Hình Trụ				
Hình nón cụt				
Hình hộp chữ nhật				
Hình chop cụt				

## CN 8 Thực hành: Đọc bản vẽ các khối đa diện và khối tròn xoay

Làm bài tập 3 SGK – Trang 55

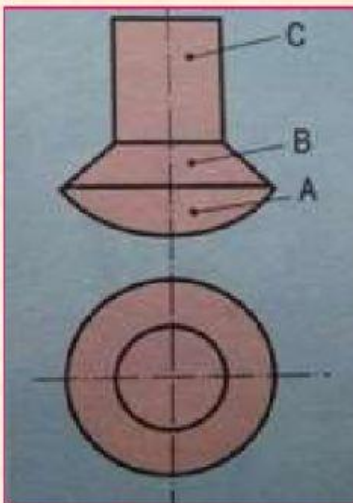
Hình dạng khối	A	B	C
Hình trụ			
Hình hộp chữ nhật			
Hình chóp cụt			

Bảng 3



H. 4a

Làm bài tập 3 SGK – Trang 55



Hình dạng khối	A	B	C
Hình trụ			
Hình nón cụt			
Hình chòm cầu			