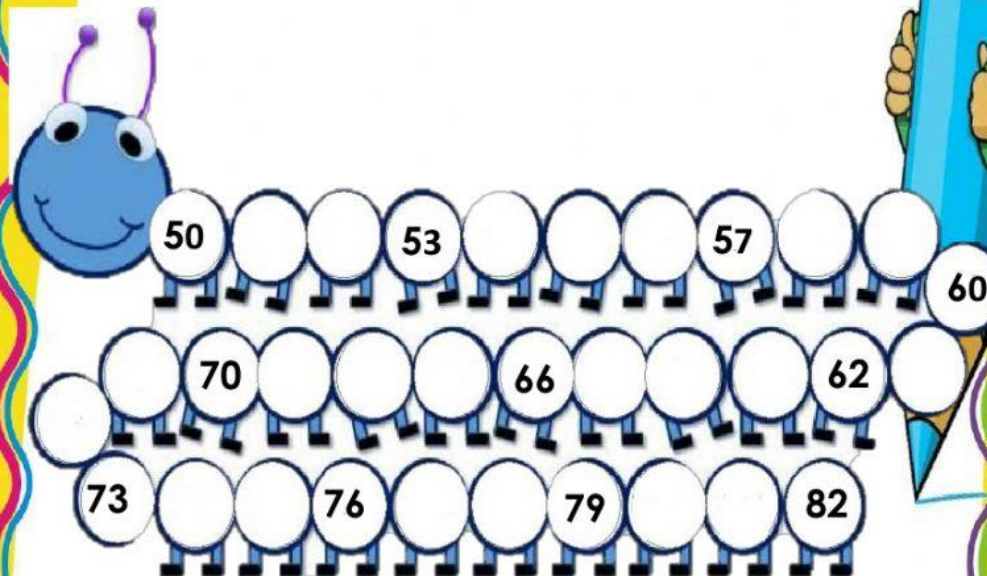


EVALUACION DE MATEMATICA

NOMBRES Y APELLIDOS _____

COMPLETA CON LOS NUMEROS QUE FALTAN








SUMA EN TU CUADERNO Y ARRASTRA LA RESPUESTA CORRECTA

$\begin{array}{r} 59 \\ +23 \\ \hline \end{array}$	<div>92</div>	$\begin{array}{r} 95 \\ +13 \\ \hline \end{array}$	<div>108</div>
	<div>82</div>		<div>208</div>

RESTA EN TU CUADERNO Y UNE CON UNA LINEA LA RESPUESTA CORRECTA

$\begin{array}{r} 78 \\ -54 \\ \hline \end{array}$	<div>24</div>	<div>84</div>	$\begin{array}{r} 63 \\ -29 \\ \hline \end{array}$
	<div>74</div>	<div>34</div>	

DESCONTAMOS Y COMPLETAMOS

				
80	50			40
	48	69	59	39
		68		
76	46		57	36
		65		
74	44		54	33
	42	63		32
71			51	