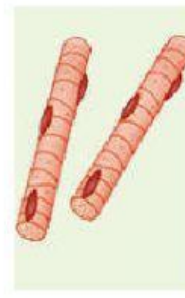
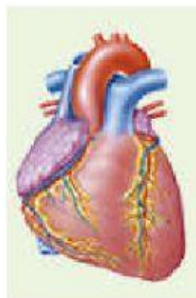




ORGANIZACIÓN DE LOS SERES VIVOS

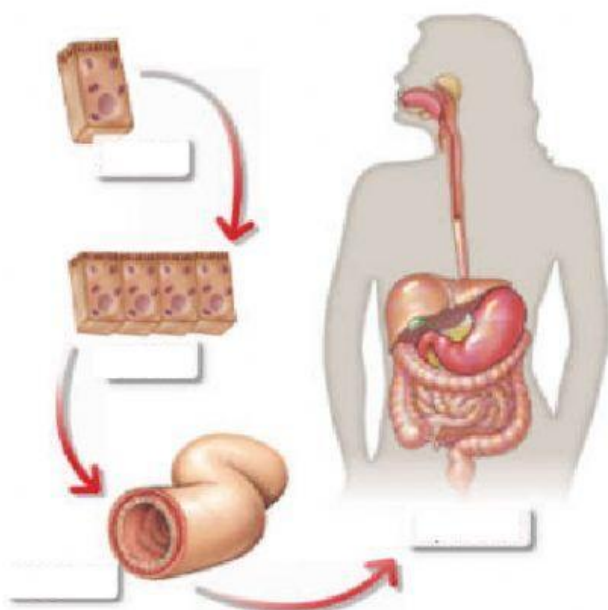
1. Ordena de menor a mayor los niveles de organización siguientes:



2. Verdadero o falso:

- Los organismos unicelulares solo pueden estar formados por células procariotas. V / F
- Los organismos pluricelulares siempre tienen células eucariotas. V / F
- Las células de los seres pluricelulares son todas iguales. V / F
- Las plantas son organismos unicelulares. V / F
- Los animales son organismos pluricelulares. V / F
- Los aparatos están formados por órganos iguales y realizan la misma función. V / F

3. Elige la opción correcta en cada caso y responde a las preguntas:



¿Qué órgano hay representado?

Intestino

Hígado

Esófago

¿De qué aparato forma parte?

Respiratorio

Digestivo

Excretor