



2. PLANTILLA PARA EL TRABAJO DE LA EQUIVALENCIA

5 MONEDAS DE \$10=




2.2 Plantilla para el trabajo de la equivalencia:

10 MONEDAS DE \$10=



2.3 Plantilla para el trabajo de la equivalencia:

5 MONEDAS DE \$10



2.4 Plantilla para el trabajo de la equivalencia: Monedas de diez pesos a cien pesos.






2.5 Plantilla para el trabajo de la equivalencia:
Monedas de 50 pesos a cien pesos.



"Para un mismo problema
puede existir más de una solución"



2.6 Plantilla para el trabajo de la equivalencia:
Monedas de cien pesos a quinientos pesos.





3. CONTANDO LAS MONEDAS

3.1 Cuenta las monedas que tiene Miranda y responde:

¿Cuánto dinero tiene?



Miranda tiene pesos.



3.3 Cuenta las monedas y responde:

¿Quién tiene más dinero, Agustín o Miranda?



Agustín tiene pesos.



Miranda tiene pesos.

Entonces tiene más dinero

3.4 Une con una línea o indica las monedas que son del mismo valor.



2 monedas de 500 pesos es equivalente a un billete de 1.000 pesos.



=



¡Bien! Ahora ya lo sabes.



10 monedas de 100 pesos son equivalentes a un billete de 1.000 pesos.



=



¿Lo sabias?

