









Gimnasio Reino de Castilla Antes Gimnasio Castillo Campestre 1988

QUIZ EL RELOJ 2°

Nombre: _____ Grado: _____

1. Escribe la hora en cada reloj.

A		B		A. Son las <input type="text"/>
				B. Son las <input type="text"/>
				C. Son las <input type="text"/>
C		D		D. Son las <input type="text"/>
				E. Son las <input type="text"/>
E		F		F. Son las <input type="text"/>

2. Resuelvo los siguientes problemas.

- Juanita empezó a cocinar a las 4: 25p.m se gastó una hora y quince minutos para terminar el postre que hizo. ¿A qué hora terminó Juanita el postre?
- Claudio cuando salió de trabajar tuvo que caminar cuarenta y cinco minutos y después 30 minutos en Transmilenio. Si Claudio salió a las 5:00pm del trabajo, ¿a qué hora llegó Claudio a casa?
- Pedro inició lavando su carro a las 11: 45 a.m. y duró una hora y veinte minutos. ¿a que hora terminó de lavar el carro Pedro?

3. Escribe sobre la línea a.m, pm o m según corresponda.

- Momento en que inicia la clase de geometría _____
- A las 12:00 inicia el almuerzo _____
- Cuando me levanto a bañar para ir al colegio _____