

Ejercicio de Matemáticas

Valor 25
puntos

Resuelva los siguientes problemas de multiplicación y división.

a) Hay 3 cuadrados.

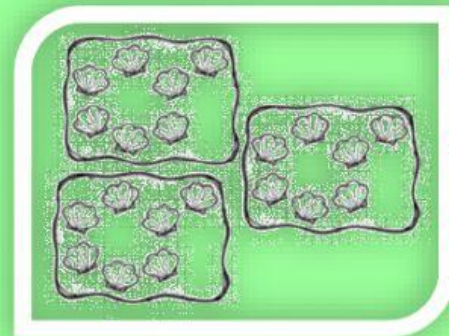
Cada cuadrado tiene 7 almejas.

¿Cuántas almejas hay?

$$7 + 7 + 7 = \underline{\hspace{2cm}}$$

$$3 \times 7 = \underline{\hspace{2cm}}$$


Hay almejas.



b) Marcos tiene 9 bolitas y quiere poner, en cada bolsa, la misma cantidad.


¿Cuántas bolitas debe colocar en cada bolsa?

Marcos colocó bolitas.



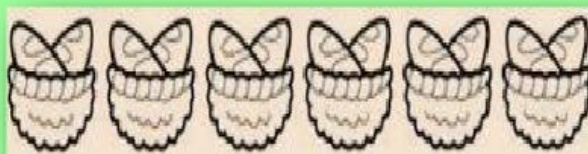
c) Juan quiere pasar sus peces a las dos peceras, pero cada pecera debe tener la misma cantidad.

¿Cuántos peces debe tener cada pecera?



Cada pecera debe tener _____ peces.

d) Hay 6 canastas y cada canasta tiene 2 panes.




$$\square + \square + \square + \square + \square + \square = \square$$

$$\square \times \square = \square$$

¿Cuántos panes hay en total?

Hay _____ panes.

d)



¿Cuántos árboles hay? _____

¿Cuántas manzanas hay en cada árbol? _____

¿Cuántas manzanas hay en total? _____

_____ = _____

Hay _____ manzanas en total.