

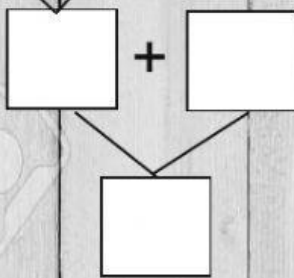
Sumas y restas combinadas.



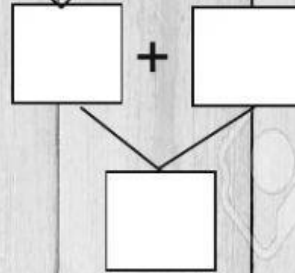
Ficha 2

1. Resuelve las siguientes operaciones:

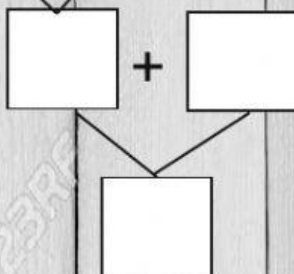
$$6 - 1 + 5 = \square$$



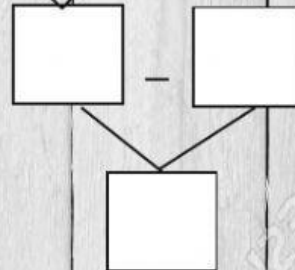
$$5 - 4 + 2 = \square$$



$$(7 - 3) + 2 = \square$$



$$(3 + 4) - 5 = \square$$



2. Elige la operación correcta y resuelve el problema:

Safa tiene 4€. Su madre le ha dado otros 5€. Después ha ido al mercado y ha comprado 10 manzanas por 3€, ¿Cuánto dinero le queda?

Le quedan €.

