

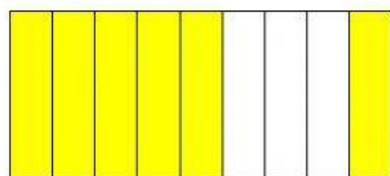
## Test Tema 9

Nombre


1. Escribe la fracción que representa cada figura y a su lado, escribe cómo se lee.




—



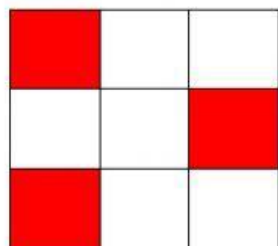
—



—



—



—

2. Ordena de menor a mayor los siguientes números, arrastrándolos a su lugar:

a. 3,74 3,24 4,24      b. 7,16 8,34 8,32

a.  <  <       b.  <  <

3. Descompón cada numero como en el ejemplo.

	D	U	d	c
24,65	2	4	6	5
3,2				
4,89				
79,18				
0,57				
6,23				

4. Calcula en un papel y escribe los resultados. No olvides poner la coma donde corresponda.

$$8,47 + 6,95 = \boxed{\phantom{000000}} \quad 3,6 + 21,79 = \boxed{\phantom{000000}}$$

$$2,78 - 0,29 = \boxed{\phantom{000000}} \quad 4,3 - 1,76 = \boxed{\phantom{000000}}$$