

LATIHAN MATEMATIKA BAB LINGKARAN
SDN JOGLO 03
KELAS 6

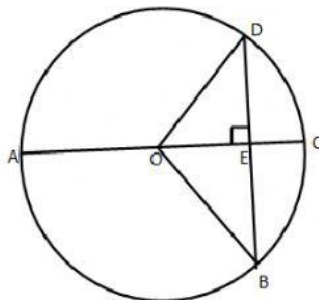
Nama :

No Absen :

Pilihlah jawaban yang paling tepat!

Kd 3.4

Perhatikan gambar lingkaran berikut ini untuk menjawab pertanyaan nomor 1 – 5!



1. Ruas garis OA dinamakan
 - A. Diameter
 - B. Tali Busur
 - C. Jari-jari
 - D. Apotema
2. Tali busur yang paling panjang ditunjukkan oleh ruas garis
 - A. BO
 - B. BD
 - C. AC
 - D. OE
3. Apotema ditunjukkan oleh ruas garis
 - A. EC
 - B. OE
 - C. OC
 - D. BD
4. Garis lengkung dari A ke D dinamakan
 - A. Tali busur
 - B. Busur
 - C. Jari-jari
 - D. Apotema
5. Daerah AOB dinamakan
 - A. Luas lingkaran
 - B. Tembereng lingkaran
 - C. Juring lingkaran
 - D. Keliling lingkaran

KD 3.5

6. Cici melihat poster berbentuk lingkaran di mading sekolahnya. Jari-jari poster tersebut adalah 13 cm. Keliling poster adalah....

- A. 81,64 cm
- B. 71,64 cm
- C. 83 cm
- D. 80,10 cm

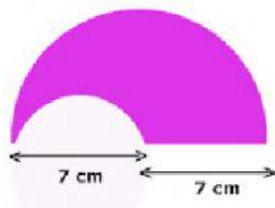
7. Diketahui Luas lingkaran adalah 2.464 cm persegi. Berapakah jari-jari lingkaran tersebut

- A. 14
- B. 24
- C. 28
- D. 40

8. Pak Edi akan membangun sebuah taman yang berbentuk lingkaran. Taman tersebut mempunyai diameter 56 m. Di sekeliling taman akan ditanami pohon dengan jarak 2 m. Harga setiap pohon adalah Rp50.000,00. Berapa biaya yang harus dikeluarkan oleh Pak Edi untuk membeli pohon?

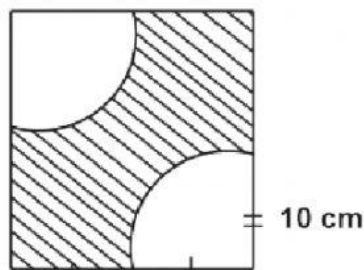
- A. Rp 440.000
- B. Rp 880.000
- C. Rp 4.400.000
- D. Rp 8.800.000

9. Keliling bangun di bawah ini adalah....



- A. 73 cm
- B. 70 cm
- C. 45 cm
- D. 40 cm

10. Luas bangun yang diarsir adalah



- A. 234 cm²
- B. 243 cm²
- C. 324 cm²
- D. 342 cm²