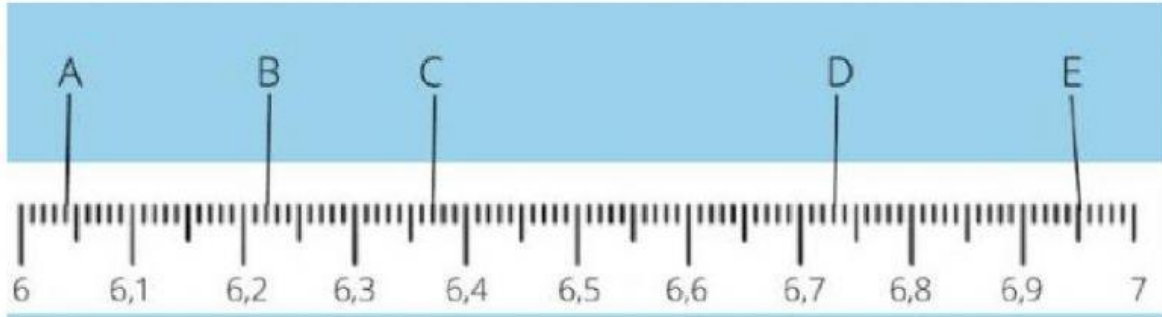


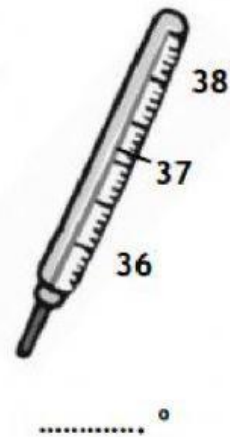
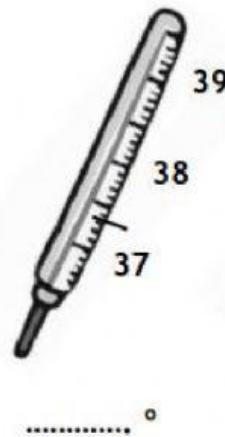
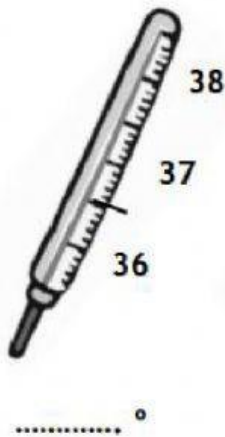
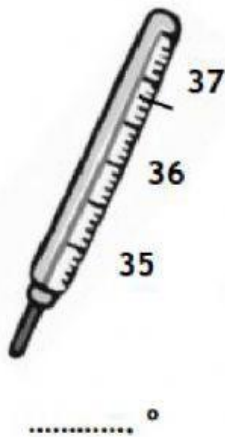
Recta numérica y números decimales

1. Escribe los números decimales que marca cada letra en la recta numérica.

A= B= C= D= E=



2. ¿Qué temperatura marcan estos termómetros?



3. Ordena de mayor a menor los siguientes números

1,10 3,30 3,43 4,33 1,01

> > > >

4. Escribe en la recta numérica los números que faltan

