

MARKAH

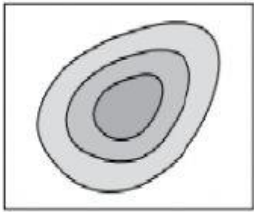
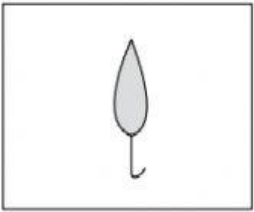

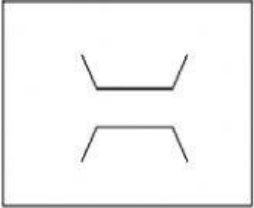
NAMA :

KELAS :

LATIHAN PENGUKUHAN PBD

Subtajak 2.4 : Ciri Pandang Darat Fizikal dan Ciri Pandang Darat Budaya

Arahan: Nyatakan simbol yang digunakan dalam peta topografi berdasarkan ciri pandang darat fizikal dan ciri pandang darat budaya.

Simbol	Ciri pandang darat fizikal	Simbol	Ciri pandang darat budaya
(a) 	kontur	(d) 	
(b) 		(e) 	
(c) Tg.		(f) W.P.	

Arahan : Nyatakan ciri pandang darat budaya yang boleh diwujudkan di kawasan ciri pandang darat fizikal di sesuatu kawasan.

Ciri pandang darat fizikal	Ciri pandang darat budaya yang boleh diwujudkan
(a) Pinggir laut	1. CHALET _____ 2. JETI _____
(b) Tanah beralun	_____ _____
(c) Tanah tinggi	_____ _____
(d) Saliran	_____ _____

