

## EXAMEN – LENGUA CASTELLANA Y LITERATURA TEMAS 13 Y 14

NOMBRE Y APELLIDOS:

FECHA:

1. Según sus lados y sus ángulos, ¿cómo son los siguientes triángulos?

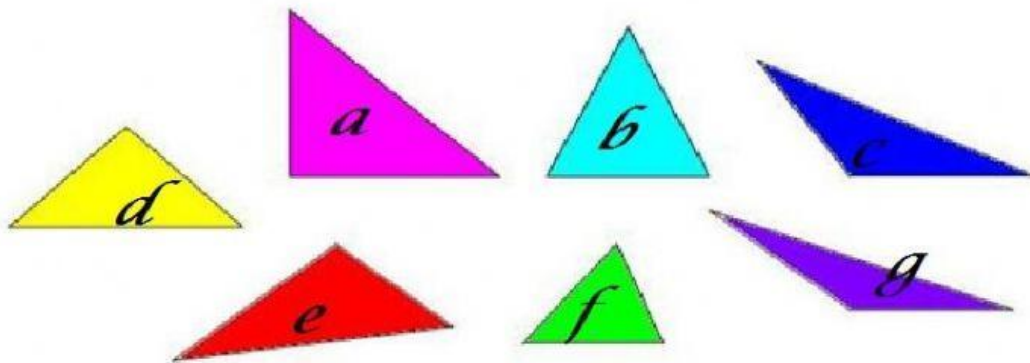
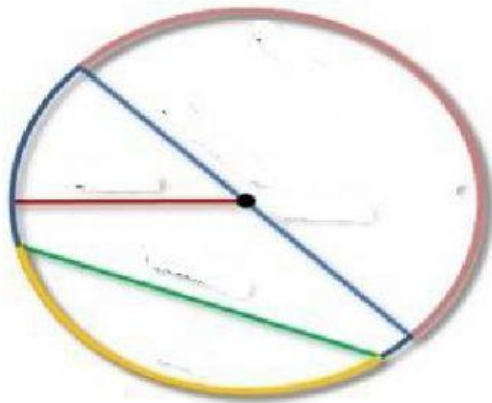


Figura	Según sus lados	Según sus ángulos
a		
b		
c		
d		
e		
f		
g		

2. ¿Qué tipo de cuadriláteros son? Especifica cuáles son paralelogramos, trapecios y trapezoides.

<p>1) </p> <p>2) </p> <p>3) </p> <p>4) </p> <p>5) </p>	<p>6) </p> <p>7) </p> <p>8) </p> <p>9) </p> <p>10) </p>	<table border="1" style="width: 100%; border-collapse: collapse;"> <tr><td style="text-align: center;">1</td><td></td></tr> <tr><td style="text-align: center;">2</td><td></td></tr> <tr><td style="text-align: center;">3</td><td></td></tr> <tr><td style="text-align: center;">4</td><td></td></tr> <tr><td style="text-align: center;">5</td><td></td></tr> <tr><td style="text-align: center;">6</td><td></td></tr> <tr><td style="text-align: center;">7</td><td></td></tr> <tr><td style="text-align: center;">8</td><td></td></tr> <tr><td style="text-align: center;">9</td><td></td></tr> <tr><td style="text-align: center;">10</td><td></td></tr> </table>	1		2		3		4		5		6		7		8		9		10	
1																						
2																						
3																						
4																						
5																						
6																						
7																						
8																						
9																						
10																						

3. Señala los elementos del siguiente círculo.



*Semicircunferencia*

*centro*

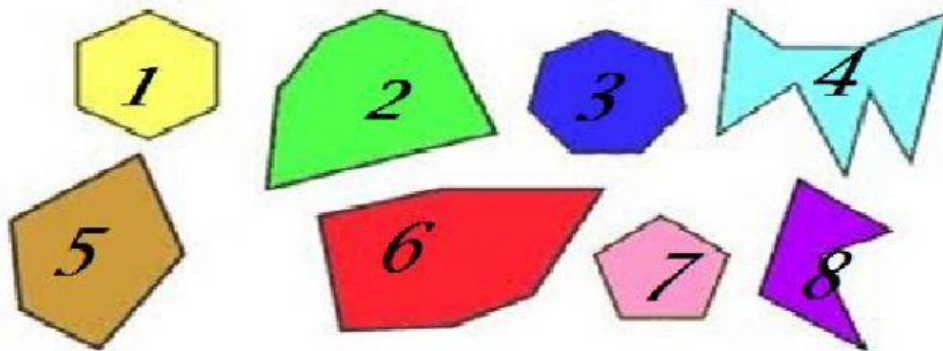
*cuerda*

*radio*

*arco*

*diámetro*

4. Dependiendo de su número de lados, ¿cómo se llaman los siguientes polígonos? ¿Cuáles son cóncavos y convexos? ¿Cuáles son regulares e irregulares?



1	2	3	4
5	6	7	8