





Tema: Diagramas estadísticos (Tabla de frecuencia y pictogramas)

Actividad 1: Observa la imagen y completa la tabla de frecuencia.



Color de carros	Frecuencia
Carro amarillo	
Carro rojo	
Carro verde	
Carro azul	

Actividad 2: Completa la información tomando en cuenta el valor asignado a cada pictograma.

Meses del año	Frecuencia	Total
SEPTIEMBRE		
OCTUBRE		
NOVIEMBRE		65
DICIEMBRE		



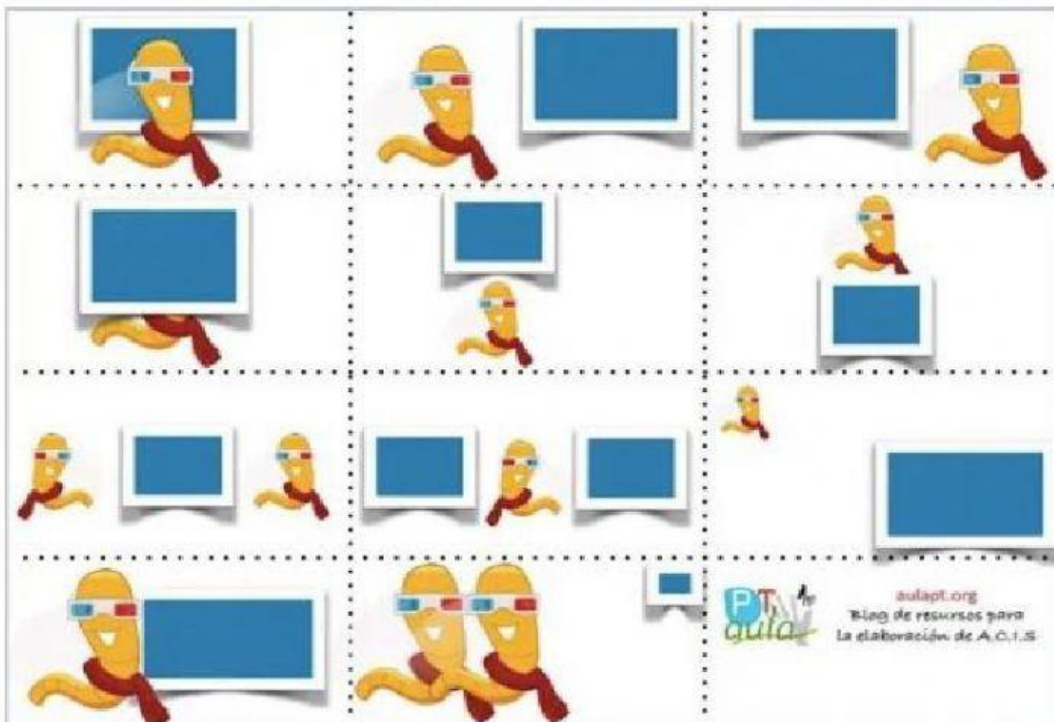
¿Cuántos libros se presentaron durante el mes de Septiembre?

¿Cuántos libros se presentaron durante el mes de Diciembre y Noviembre?

¿Cuántos libros se presentaron en el mes de Octubre?

Actividad 3: Actividad de habilidad mental (1 punto)

El gusano está delante de la pantalla	El gusano está a la izquierda de la pantalla	El gusano está a la derecha de la pantalla
El gusano está detrás de la pantalla	El gusano está debajo de la pantalla	El gusano está encima de la pantalla
La pantalla está entre los gusanos	El gusano está entre las pantallas	El gusano está lejos de la pantalla
El gusano está pegado a la pantalla	Los gusanos están lejos de la pantalla	 aulapt.org Blog de recursos para la elaboración de A.C.I.S



¡ Recuerda ¡

**Continuar
manteniendo el
distanciamiento y
el uso correcto de
la mascarilla.**

