



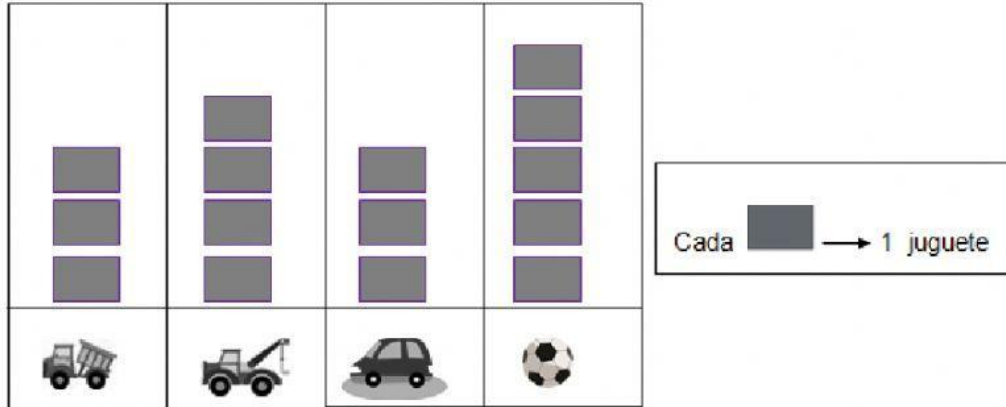
NOTA

Evaluación Unidad 6 "Gráficos de barras y Pictogramas"

Nombre: _____ Fecha: 12/10/21

Puntaje Ideal: 29 puntos. / Puntaje Real: _____.

Observa el pictograma para responder las preguntas 1, 2, 3 y 4 (4 puntos)



1. El juguete más elegido es

- A. ☐
- B. ☐
- C. ☐

2. ¿Cuántos niños y niñas respondieron la encuesta?

- A. ☐ 12
- B. ☐ 15
- C. ☐ 20

3. Los dos juguetes que obtuvieron las mismas preferencias son

- A. ☐ camión y pelota.
- B. ☐ auto y camión.
- C. ☐ camión y grúa.

4. ¿Cuál es la afirmación incorrecta?

- A. ☐ El juguete menos elegido es la grúa.
- B. ☐ La pelota obtuvo más votos que el camión.
- C. ☐ 3 niños eligieron el auto como su juguete preferido.

5. Con los datos registrados en este recuadro: (18 puntos)
- Completa la tabla de conteo.
 - Arrastra las esrellas y construye un pictograma.

Paseo preferido por un grupo de niños del 1º Básico

Parque de diversiones

Playa

Parque de diversiones

Playa

Parque de diversiones

Playa

Piscina

Parque de diversiones


Piscina

Playa

Piscina

Playa

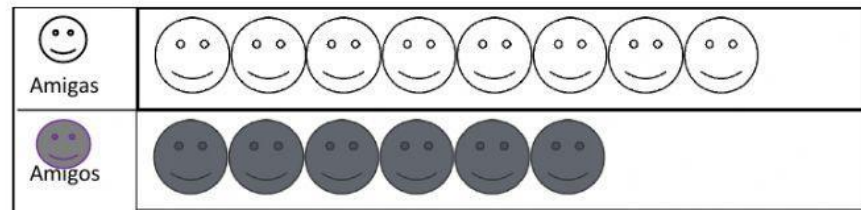
Paseo Preferido	Conteo	Cantidad de votos
Parque de diversiones		
Playa		
Piscina		





6. Observa el pictograma para responder.

(4 puntos)

Amigas y amigos de Juan



Cada  representa a una amiga de Juan.

Cada  representa a un amigo de Juan.

- a) ¿Cuántos  tiene Juan?
- b) ¿Cuántas  tiene Juan?
- c) ¿Cuántos  y  en total tiene Juan?
- d) ¿Cuántos  menos  que tiene Juan?

7. Observa la tabla de datos para responder:

(3 puntos)

Libros que ha leído Alejandro

Tipo de libro	Cantidad
Cuentos	16
Terror	10
Ciencia ficción	12

- a) ¿Cuántos cuentos más que libros de terror ha leído?
- b) ¿Cuántos libros de terror ha leído Alejandro?
- c) ¿Cuántos libros de ciencia ficción más que de terror ha leído Alejandro?