


 <p><b>20% Dcto</b> En la imagen % es el símbolo de ...</p>	<p>En porcentajes, las palabras "de", "del", "de los", nos indica una ...</p>	<p>De 50 estudiantes, 45 son mujeres, ¿cuál es el % de los varones?</p>	<p>En la siguiente figura:  La porción cortada, representa el ...%</p>
<p>El 50% de 20 es ...</p>	<p>Si el P<sub>v</sub> es mayor que el P<sub>c</sub>, entonces hay una ...</p>		<p>30% de 20</p>
	<p><b>Tiendas: EL BUEN VESTIR</b>  <b>PROMO JEAN 25%</b> ¿Cuánto se pagará por el pantalón?</p>		
<p> \$/ 50 <b>Dcto 10% más 20%</b> ¿A cuánto ascenderá el descuento en soles?</p>	<p>El 30% de 50 es ...</p>		<p>12 meses</p>
<p>¿Qué tanto por ciento de 60 es 18? A) La expresión "es" nos indica una ... B) El resultado de la operación es ...</p>	<p>El 10% del 5% de 1200 (Roma)</p>	<p>10 unidades es una</p>	<p><b>20% DE DCTO.</b> 1 El término "DCTO", nos indica ... 2 Si una chompa cuesta 70 soles, ¿cuánto es el descuento?</p>