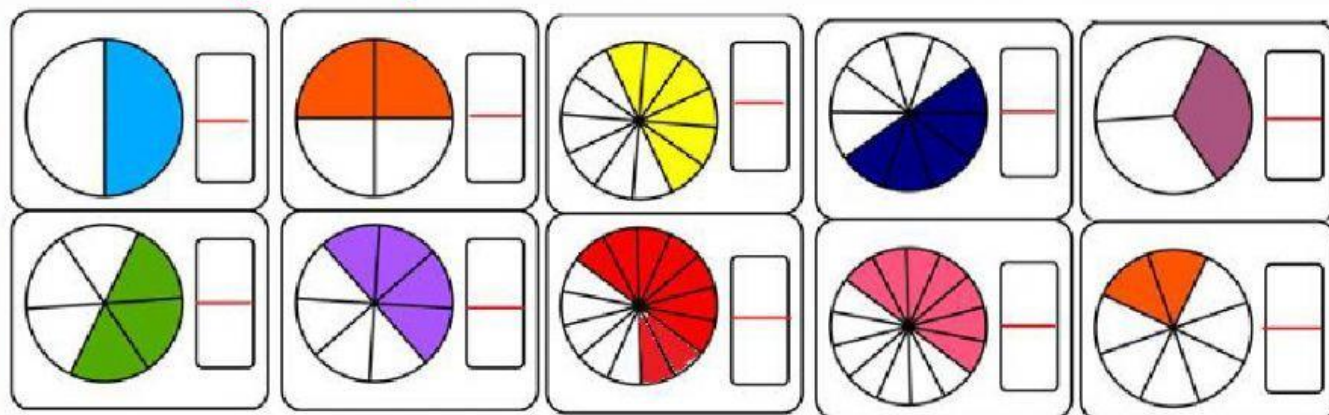


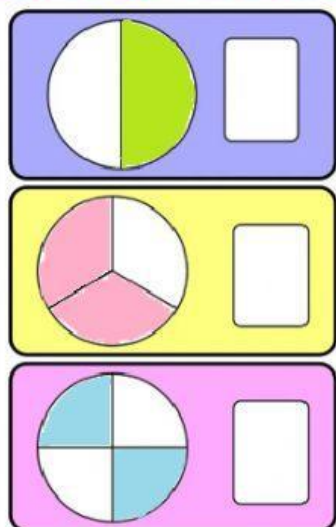
# LAS FRACCIONES

Nombre y Apellidos: \_\_\_\_\_

**Observa los gráficos y escribe la fracción**



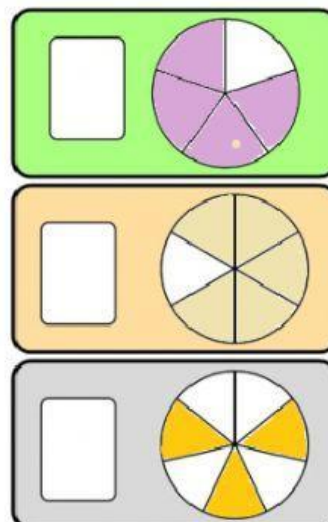
**Traslada la fracción correspondiente según los gráficos representados**



$$\frac{2}{4} \quad \frac{5}{6}$$

$$\frac{3}{7} \quad \frac{4}{5}$$

$$\frac{2}{3} \quad \frac{1}{2}$$



**Selecciona la opción correcta**

El numerador indica

Una fracción

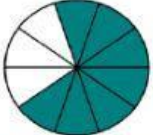



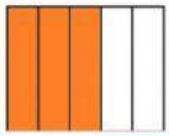
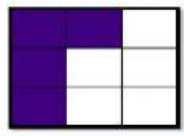

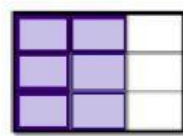
El denominador indica

las partes en que se divide un entero


las partes que tomamos de lo dividido.

expresa una cantidad dividida.

## Selecciona la fracción correcta

			
$\frac{2}{10}$ $\frac{5}{9}$ $\frac{7}{10}$	$\frac{4}{6}$ $\frac{1}{5}$ $\frac{3}{6}$	$\frac{2}{10}$ $\frac{5}{9}$ $\frac{9}{10}$	$\frac{2}{6}$ $\frac{1}{5}$ $\frac{3}{6}$
			
$\frac{3}{6}$ $\frac{2}{4}$ $\frac{3}{5}$	$\frac{4}{8}$ $\frac{4}{9}$ $\frac{5}{9}$	$\frac{3}{6}$ $\frac{2}{4}$ $\frac{4}{5}$	$\frac{4}{8}$ $\frac{4}{9}$ $\frac{6}{9}$


## Observa y elige el inciso correcto




- a) Dos medios
- b) Un medio
- c) Una mitad




- a) Tres tercios
- b) Dos tercios
- c) Un tercio



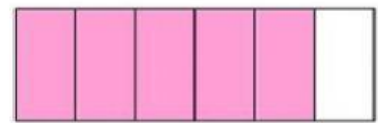
- a) Nueve décimos
- b) Nueve octavos
- c) Nueve novenos



- a) Cuatro quintos
- b) Un cuarto
- c) Cuatro cinco



- a) Tres tercios
- b) Tres sextos
- c) Tres tres



- a) Cinco y uno
- b) Un quinto
- c) Cinco sextos

## Relaciona cada fracción con su forma de leerla

$$\frac{2}{3}$$

$$\frac{1}{2}$$

$$\frac{3}{4}$$

TRES CUARTOS

DOS TERCIOS

UN MEDIO

SEIS DÉCIMOS

CUATRO QUINTOS

SIETE NOVENOS

$$\frac{4}{5}$$

$$\frac{7}{9}$$

$$\frac{6}{10}$$

