















Gimnasio Reino de Castilla Antes Gimnasio Castillo Campestre 1988

QUIZ EL RELOJ

Nombre: _____ Grado: _____

1. Escribo las horas y minutos que indica cada reloj.

 <input type="text"/> : <input type="text"/>	 <input type="text"/> : <input type="text"/>	 <input type="text"/> : <input type="text"/>	 <input type="text"/> : <input type="text"/>
 <input type="text"/> : <input type="text"/>	 <input type="text"/> : <input type="text"/>	 <input type="text"/> : <input type="text"/>	 <input type="text"/> : <input type="text"/>
 <input type="text"/> : <input type="text"/>	 <input type="text"/> : <input type="text"/>	 <input type="text"/> : <input type="text"/>	 <input type="text"/> : <input type="text"/>

2. Ubico el minuterero en el lugar que



10	50	40	15	30	45
25	05	55	00	20	35

3. Uno con líneas el reloj con su respectiva hora.



8:50



6:23



7:30



9:15



10:35



12:45



4:10



1:55