


Sección Primaria
 Prueba Sumativa de Matemáticas.




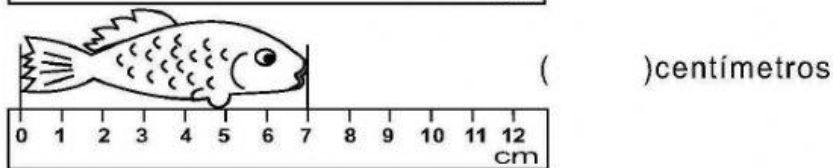
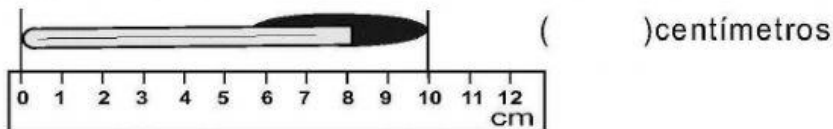
Nombre: _____ Grado: 1° A-B

Fecha: _____ Valor: 20 pts.

Docente: Francisca González/ Kenia carrera

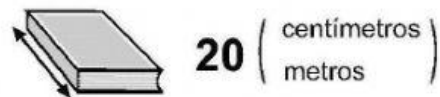
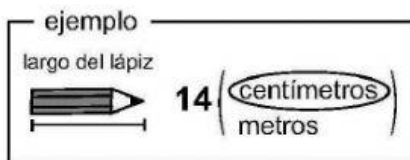
1. Escribe cuanto mide cada objeto en el cuadrito(6 pts.)

1 Escribo las medidas.

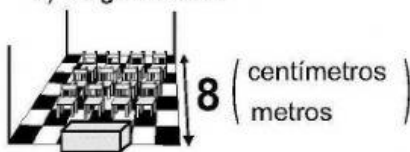


2 Encierro la unidad de medida más adecuada.

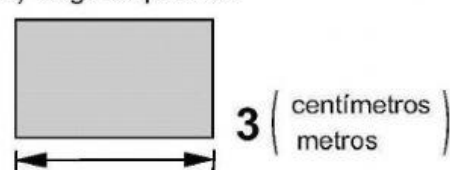
a) largo de libro



b) largo de aula



c) largo de pizarrón



2. Completa los espacios en blanco (7 pts.)

A. La balanza sirve para _____

B. El centímetro es una medida de _____ para medir

C. Escribe la abreviatura de una libra _____

D. Abreviatura de un kilogramo _____

E. Escribe dos ejemplos de medidas no convencionales _____

3. Escribe que significa cada medida de longitud (3 pts.)

CM _____

M _____

PULG _____

4. Marca con un ✓ que objeto pesa más (4 pts.)

A.



B.



5. Darle click a la medida de masa correcta.

C.



1 LB

10 KG

D.



170 KG

20 LB