

PHÉP CỘNG TRONG PHẠM VI 20

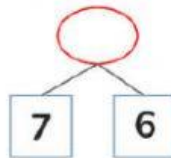
Cô Dư Thanh Mai - 0327561686

Phần trắc nghiệm. (Chọn phương án đúng hoặc điền số thích hợp vào chỗ trống)

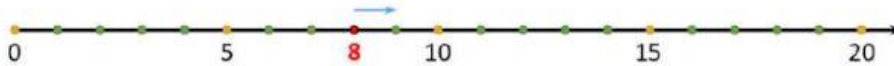
Câu 1. Điền số thích hợp vào ô trống.

$$\boxed{4} + \boxed{9} = \boxed{}$$

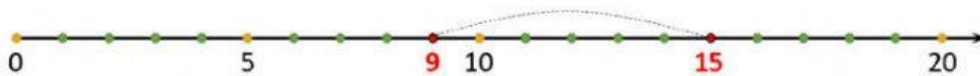
Câu 2. Số thích hợp điền vào dấu ? là:



Câu 3. Từ vị trí của số 8, ta tiến sang bên phải qua 6 số nữa thì đến vị trí của số



Câu 4. Từ vị trí của số 9, cần di chuyển qua bao nhiêu số để đến được vị trí của số 15 ?



- A. 4 số. B. 5 số. C. 6 số. D. 7 số.

Câu 5. Các bạn Sóc đang cầm các tấm thẻ ghi các phép tính khác nhau.

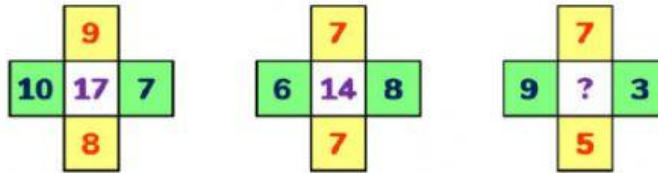


Phép tính **không** có kết quả là 12 trong các phép tính trên là:

Câu 6. Tổng nào lớn nhất trong các tổng sau:

- A. $9 + 9$. B. $9 + 8$. C. $9 + 7$. D. $9 + 6$.

Câu 7. Quan sát các hình dưới đây, tìm quy luật và viết số thích hợp thay cho dấu ?.



Số thích hợp điền thay cho dấu ? trong là

Câu 8. Người thợ dùng 8 gói đường để nấu thành kẹo trong lần đầu tiên. Lần thứ hai, người thợ dùng hết 7 gói đường nữa.

Viết phép tính giúp ta tìm được tổng số gói đường người thợ đã dùng.

$$\square + \square = \square$$

Sau hai lần nấu kẹo, người thợ dùng gói đường.

Câu 9.

1 con mèo có 4 chân.

4 con mèo có chân.



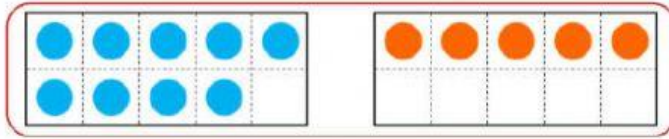
Câu 10. Thầy giáo đẩy một xe có 4 quả bóng rổ và 8 quả bóng chuyền ra sân tập thể dục cho các bạn nhỏ.



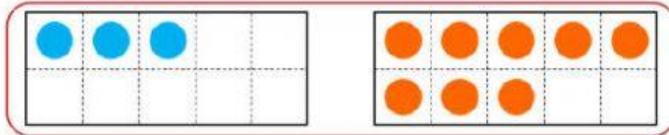
Có tất cả quả bóng trong xe đẩy của thầy.

Phần tự luận.

Bài 1. Thực hiện phép tính sau:



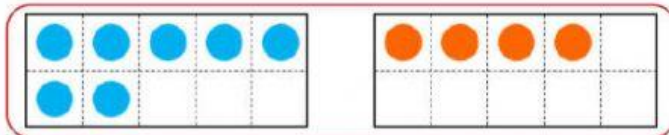
$9 + 5 = \dots\dots$



$3 + 8 = \dots\dots$



$6 + 6 = \dots\dots$



$7 + 4 = \dots\dots$

Bài 2. Thực hiện phép tính.

$$\begin{array}{r} 5 \\ + 8 \\ \hline \dots\dots \end{array}$$

$$\begin{array}{r} 2 \\ + 9 \\ \hline \dots\dots \end{array}$$

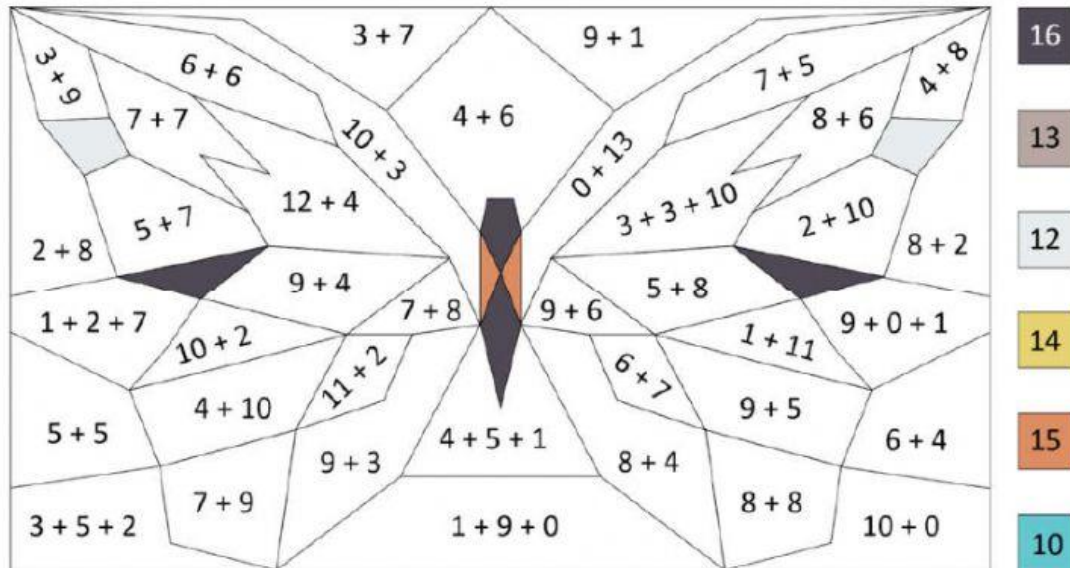
$$\begin{array}{r} 7 \\ + 3 \\ \hline \dots\dots \end{array}$$

$$\begin{array}{r} 8 \\ + 8 \\ \hline \dots\dots \end{array}$$

$$\begin{array}{r} 9 \\ + 9 \\ \hline \dots\dots \end{array}$$

$$\begin{array}{r} 6 \\ + 7 \\ \hline \dots\dots \end{array}$$

Bài 3. Thực hiện phép tính rồi tô màu thích hợp.



Bài 4. Mẹ làm một số bánh nhưng vì lò nướng nhỏ bên đằng phải chia thành 2 lần nướng bánh. Lần thứ nhất mẹ nướng được 8 cái bánh. Lần thứ hai mẹ nướng được 6 cái bánh. Hỏi mẹ đã làm bao nhiêu cái bánh ?

.....

.....

.....

Bài 5. Nhà Lan và Minh ở trên cùng một con đường. Do 1 bên đường là bờ sông không có nhà ở nên những các nhà ở bên đường còn lại được đánh số theo thứ tự tăng dần. Bạn Lan ở nhà số 6. Lan cần đi qua 9 nhà nữa thì mới đến được nhà Minh. Hỏi nhà bạn Minh được đánh số bao nhiêu ?



.....

.....

