

ชื่อ

ชั้น

เลขที่











แบบฝึกหัด: เรื่องอัตราส่วน

รายวิชา ค21101 คณิตศาสตร์ 1 ชั้นมัธยมศึกษาปีที่ 1

ดร.กนกพร ปานกลีบ กลุ่มสาระการเรียนรู้คณิตศาสตร์ โรงเรียนเตรียมอุดมศึกษาพิเศษ






1. ให้นักเรียนพิจารณาภาพที่กำหนดให้ แล้วโยงคำตอบกับอัตราส่วนที่กำหนดให้



1. จำนวนหมูต่อจำนวนม้า			1 : 2
2. จำนวนไก่ต่อจำนวนเป็ด			4 : 5
3. จำนวนลูกเจี๊ยบต่อจำนวนลูกเป็ด			1 : 2
4. จำนวนสุนัขต่อจำนวนแพะ			1 : 3
5. จำนวนม้าต่อจำนวนวัว			1 : 1

2. จงเติมตัวเลขแสดงจำนวนใน



1. 12	:		=	36	:	42
2. 7	:	16	=	70	:	
3. 72	:	32	=	9	:	
4. 9	:	21	=		:	126
5. 	:	52	=	11	:	13