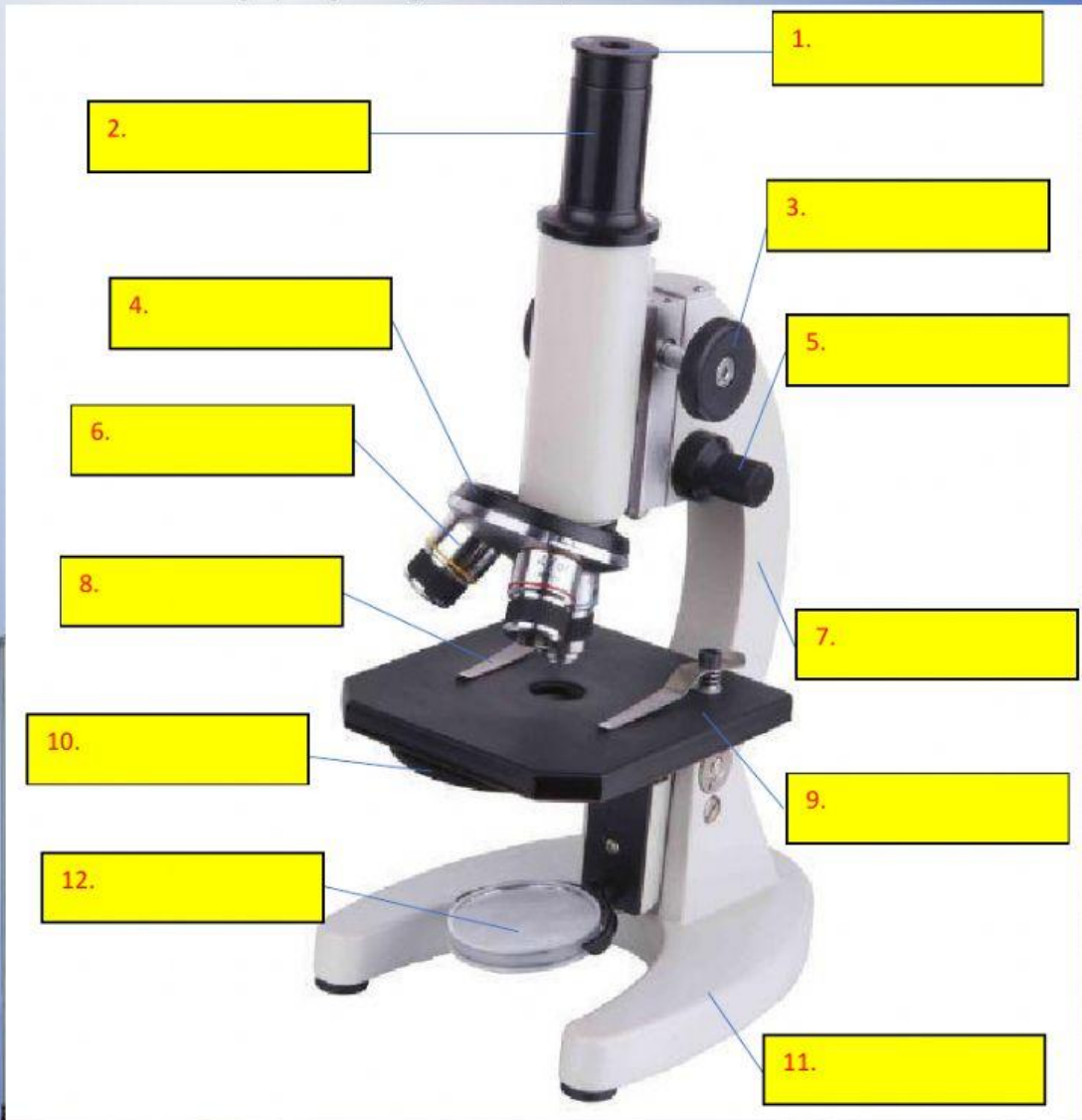


LEMBAR KERJA SISWA OBJEK IPA DAN PENGAMATANNYA

1. Pengamatan Mikroskop
Lengkapi bagian-bagian mikroskop berikut.



1.

2.

3.

4.

5.

6.

7.

8.

9.

10.


11.

12.

1. Lensa okuler
2. Tabung
3. Makrometer
4. Mikrometer
5. Lengan
6. Lensa objektif
7. Penjepit
8. Kaki mikroskop
9. Revolver
10. Meja
11. Diafragma
12. Cermin



2. Pengamatan alat ukur
Jodohkan alat ukur berikut sesuai Namanya




1. Gelas ukur

2. Neraca 3 lengan

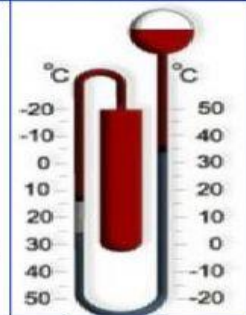

3. Termometer

4. Mikrometer sekrup

5. Jangka sorong



3. Isilah titik-titik dibawah ini dengan nama besaran dari alat ukur yang dipakai



.....

.....

.....

