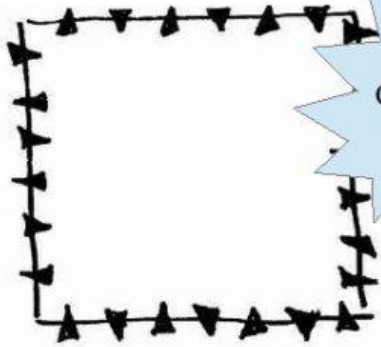


Resolvemos problemas

1.- Rosalía ha dibujado esta semana los siguientes animales: el lunes 34 vacas, el miércoles 12 ovejas y el sábado 16 cabras. ¿Cuántos animales ha dibujado a lo largo de la semana?

DATOS



ANALIZA Y
COMPRENDE

¿QUÉ ME PREGUNTAN?




¿QUÉ HAY QUE HACER?



PIENSA

OPERACIÓN

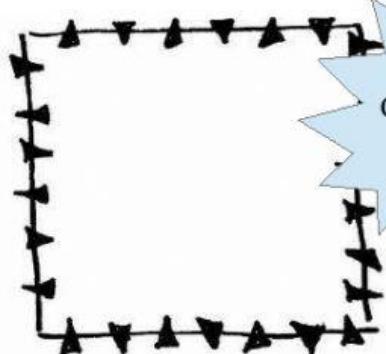


RESUELVE

RESULTADO DEL PROBLEMA EN UNA FRASE


2.- Estoy leyendo un libro que tiene 321 páginas. Si ya he leído 96, ¿cuántas páginas me quedan por leer?

DATOS




ANALIZA Y
COMPRENDE

¿QUÉ ME PREGUNTAN?




¿QUÉ HAY QUE HACER?



PIENSA

OPERACIÓN



RESUELVE

RESULTADO DEL PROBLEMA EN UNA FRASE

RESUELVO PROBLEMAS

NOS ACTIVAMOS

1 ¿Notas algo raro en este problema?



También han hecho 5 peces azules más que rojos.

Averigua cuántos peces de papel hay.

Los niños han hecho 13 peces rojos de papel.

En grupo, pensad cómo debería estar escrito el problema para poder resolverlo.



www

COMPRENDENOS

2 Numera las frases para ordenar los problemas.



¿Cuántos niños van?



6 niños no pueden ir.



Eva ha invitado a 15 niños a su cumpleaños.



Su padre tiene el triple de años.



Lorena tiene 15 años.



Calcula la edad del padre de Lorena.

3 Vuelve a leer los enunciados en orden para comprobar que tienen sentido.