



LKPD

LEMBAR KERJA PESERTA DIDIK

KELAS 3

TEMA 3
SUBTEMA 4
PEMBELAJARAN 5

KEAJAIBAN PERUBAHAN WUJUD
DISEKITARKU

NAMA :

NO. ABSEN :

KEGIATAN 2

Kalian sudah menyimak video cerita Gebi bukan? Ayo, tentukan lamanya hujan turun dengan satuan waktu yang tepat!

Tentukan waktu mulainya turun hujan dengan memperhatikan gambar di bawah ini.



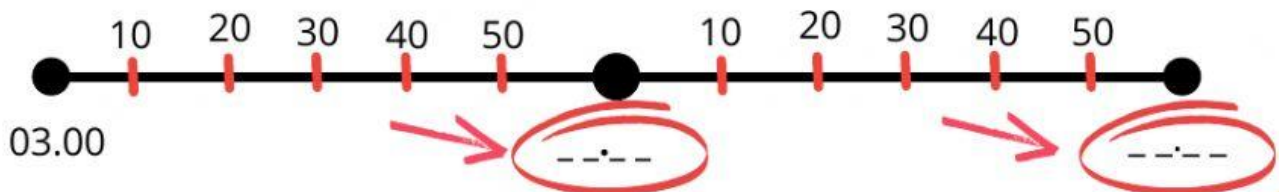
Mulai turun hujan pukul ...

Tentukan waktu berakhirnya hujan, dengan mengamati gambar berikut!



Hujan reda pada pukul ...

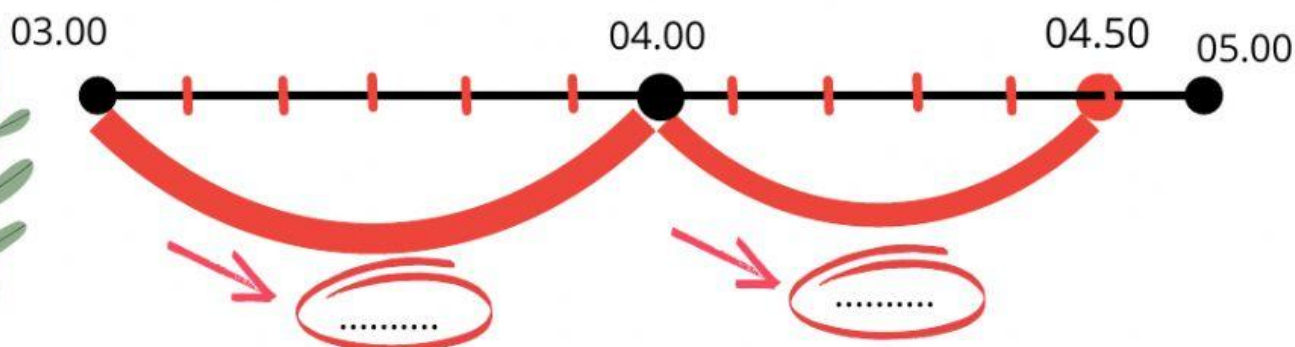
Buatlah garis waktu, agar lebih mudah dalam mengerjakan! Lengkapi lingkaran merah dibawah dengan benar!



Tentukan waktu awal turun hujan dan waktu hujan reda!



Hitunglah berapa rentang waktunya dengan satuan yang tepat!

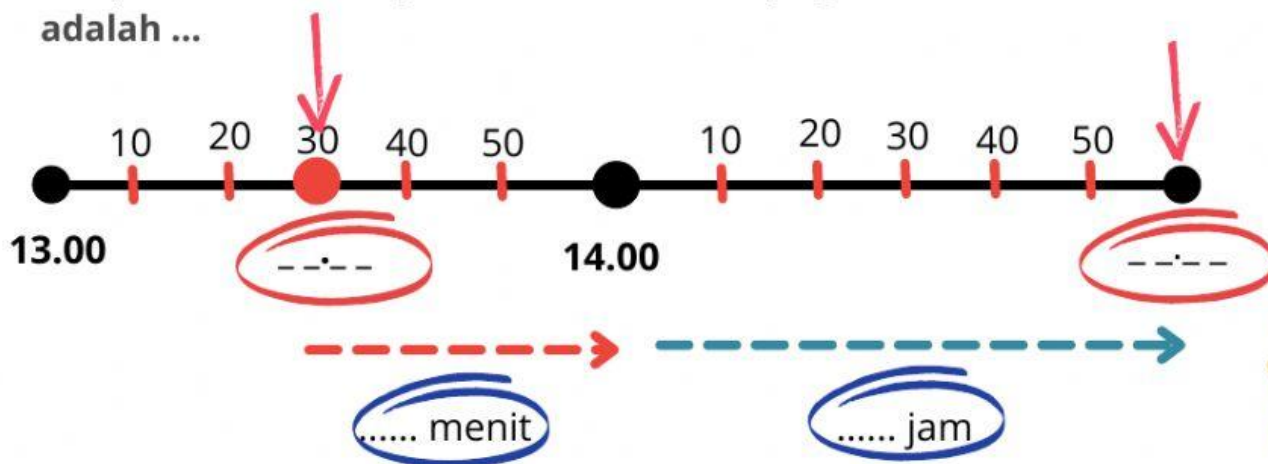


Jadi, lamanya waktu hujan berlangsung adalah

... jam + ... menit = ... jam ... menit

Untuk mengasah kemampuan kalian, coba pecahkan soal berikut dengan benar!

- Sebuah bus berangkat dari kota A pukul 13.30. Bus tersebut sampai di kota B pukul 15.00. Lama perjalanan bus tersebut adalah ...



Jadi lama perjalanan bus tersebut adalah. . . jam . . . menit

Coba tuliskan apa saja kegiatan kamu pagi ini, dilengkapi dengan waktu kegiatan pada tabel berikut!

Mulai Kegiatan	Selesai Kegiatan	Kegiatan	Lama kegiatan
Pukul ...	Pukul jam
Pukul ...	Pukul jam
Pukul ...	Pukul jam
Pukul ...	Pukul jam
Pukul ...	Pukul jam
Pukul ...	Pukul jam

SOAL

Untuk mengukur kemampuan kalian, kerjakan soal berikut!

Soal

- Sebuah bus berangkat dari kota A pukul 13.30 Bus tersebut sampai kota B pukul 14.45. Lama perjalanan bus tersebut adalah ...
 - 60 menit
 - 65 menit
 - 70 menit
 - 75 menit
- Raka dan keluarga pergi ke rumah paman. Lama perjalanan mereka 2 jam. Jika mereka sampai pada pukul 10.00. Pukul berapakah mereka sampai di rumah paman?
 - Pukul 11.20
 - Pukul 12.00
 - Pukul 13.00
 - Pukul 14.20