

EXAMEN BIMESTRAL DE ARITMÉTICA

Nombre: _____ Fecha: 12/10/21

1. Observa las tarjetas numéricas. Luego, escribe el número **ANTERIOR** v el número **POSTERIOR** según corresponda.

	96	
--	----	--

	58	
--	----	--


	69	
--	----	--

	71	
--	----	--

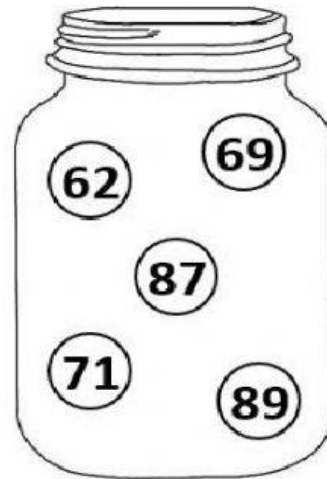


2. Reconoce los números que están en el pomo y ordénalos según se indica.

De forma ascendente:



De forma descendente:



3. Compara las siguientes cantidades, seleccionando >, < o = según corr

> <

58 85

> <

8U3D 83

> <

6D1U 76

> <

92 64



4. Resuelve las siguientes operaciones.

D	U	
2	2	+
3	4	


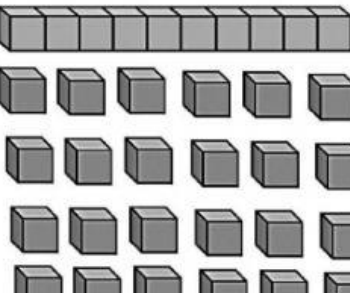
D	U	
8	8	-
1	2	

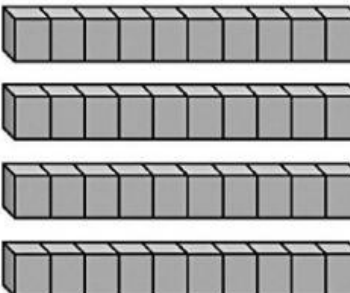
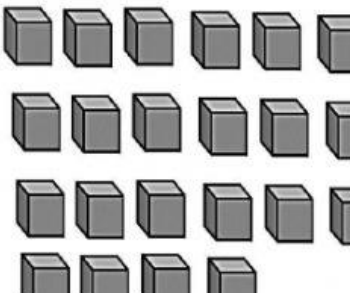
D	U	
7	1	-
3	1	

D	U	
5	8	+
3	1	











5. Observa las agrupaciones y forma decenas. Luego, escribe el número que formaste.





		<table border="1"> <tr> <th>D</th> <th>U</th> </tr> <tr> <td></td> <td></td> </tr> </table>	D	U		
D	U					

		<table border="1"> <tr> <th>D</th> <th>U</th> </tr> <tr> <td></td> <td></td> </tr> </table>	D	U		
D	U					

6.- Relaciono cada objeto con el dinero que necesito para comprarlo.

 <div>28 soles</div>	
 <div>17 soles con 50 céntimos</div>	
 <div>1 sol con 20 céntimos</div>	
 <div>75 soles</div>	


7.- Cuenta las monedas y billetes y coloca el resultado en el recuadro.

 <p>Tengo S/. <input style="width: 50px;" type="text"/></p>	 <p>Tengo S/. <input style="width: 50px;" type="text"/></p>
 <p>Tengo S/. <input style="width: 50px;" type="text"/></p>	 <p>Tengo S/. <input style="width: 50px;" type="text"/></p>

8.- Arrastra las monedas para completar la cantidad del primer recuadro y escribe como se lee.

 <input style="width: 100px; height: 30px;" type="text"/>	
	 
	  





9.- Un grupo de niñas va a una tienda de ropas y desea adquirir una prenda de vestir.



S/. 85



S/. 25



S/. 19

- Martha compró una blusa y pagó con 50 nuevos soles.
- Ruth compró una falda y pagó con 20 nuevos soles.
- Claudia compró un vestido y pagó con 100 nuevos soles.

¿Cuánto recibió de vuelto cada niña?

MARTHA
Pagó _____
Blusa _____
Recibió S/. _____

RUTH
Pagó _____
Falda _____
Recibió S/. _____

CLAUDIA
Pagó _____
Vestido _____
Recibió S/. _____