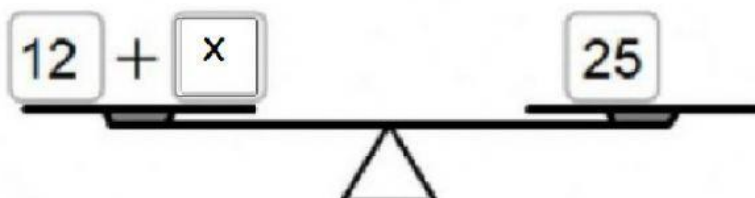


EVALUACION DE ECUACIONES 2Contenido: Ecuaciones

NAME: FECHA : 13 de octubre Total: 30 Puntos

I.- Escribe la ecuación representada en la balanza. (3 pts c/u, 12 pts en total)

a).




Ecuación:

b).



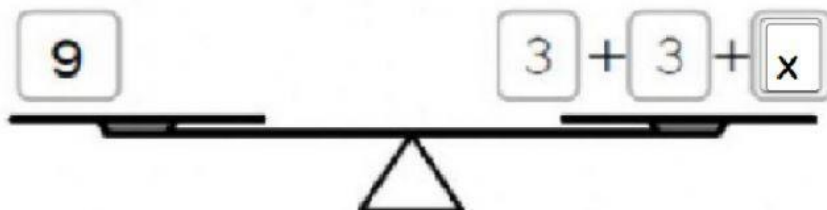
Ecuación:

c).



Ecuación:

d).



Ecuación:

2. Escribe la ecuación que corresponde a cada situación. (6 pts c/u, 18 pts en total)

a. Antonio tenía 43 dulces y le regaló 21 a su amigo Juan,
¿Con cuántos dulces quedó?

☐ ☐

Respuesta: _____

b. Emilia tenía \$200 pesos y su mamá le regaló unos cuantos pesos más. Si ahora tiene \$450, ¿cuánto dinero le regalo su mamá?

☐ ☐

Respuesta: _____

c. En una plantación hay 28 árboles entre manzanos y limoneros. Si 23 son manzanos, ¿cuántos árboles son limoneros?

☐ ☐

Respuesta: _____