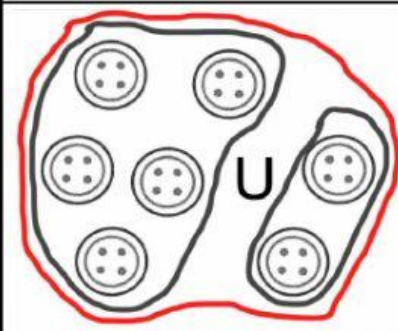
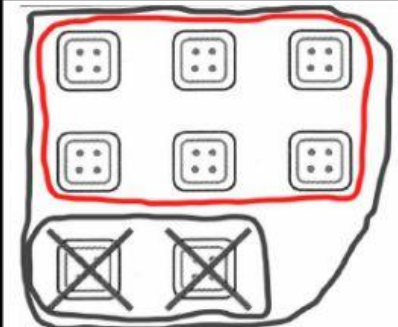
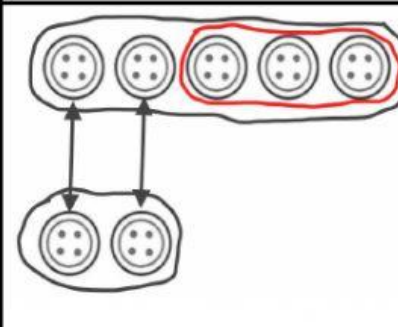
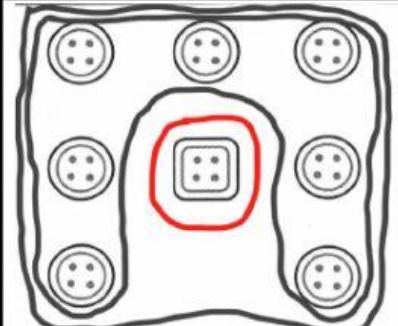
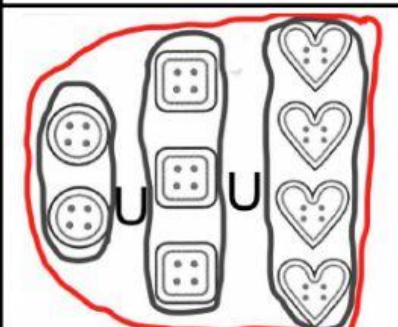


COLLEGA OGNI PROBLEMA AL SUO DISEGNO, POI SCRIVI L'OPERAZIONE.

PROBLEMI	DISEGNI	OPERAZIONI
Lucia ha 8 bottoni sulla camicetta. Perde 2 bottoni. Quanti bottoni restano sulla camicetta?		.... ○ .... = ....
Maria ha 5 bottoni sul davanti della camicetta e 2 bottoni sulle maniche. Quanti bottoni in tutto?		.... ○ .... = ....
In una scatola ci sono 2 bottoni rotondi, 3 bottoni quadrati e 4 bottoni a cuore. Quanti bottoni ci sono nella scatola?		.... ○ .... = ....
La mamma ha 8 bottoni. 7 bottoni sono rotondi. Quanti sono i bottoni non rotondi?		.... ○ .... = ....
Laura ha 5 bottoni, Maria ne ha 2. Quanti bottoni ha in più Laura?		.... ○ .... ○ .... = ....