



Competencia:
RESUELVE PROBLEMAS DE CANTIDAD

Capacidad:
▪ Comunica su comprensión sobre los números y las operaciones.

1. Observa las tarjetas numéricas. Luego, escribe el número **ANTERIOR** y el número **POSTERIOR** según corresponda.


	96	
	69	

	58	
	71	





2. Reconoce los números que están en el pomo y ordénalos según se indica.

De forma ascendente:



De forma descendente:



3. Compara las siguientes cantidades, seleccionando $>$, $<$ o $=$ según corresponda.

58 85

8U3D 83

6D1U 76

92 64



Competencia:
RESUELVE PROBLEMAS DE CANTIDAD

Capacidad:
▪ Usa estrategias y procedimientos de estimación y cálculo.

4. Resuelve las siguientes operaciones.

D	U	
2	2	+
3	4	
<hr/>		

D	U	
8	8	-
1	2	
<hr/>		

D	U	
7	1	-
3	1	
<hr/>		

D	U	
5	8	+
3	1	
<hr/>		

