

## جدول ٨

اسحب الإجابة الصحيحة و ضعها في المكان المناسبة:

٤٠

٥٦

١٦

٦٤

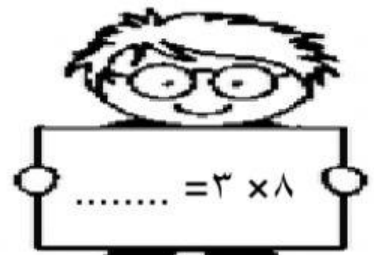

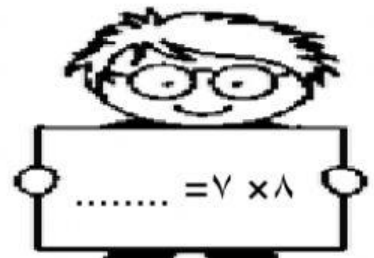




٣٢

٧٢

٢٤

٨٠

٤٨



إعداد معلمة الرياضيات : أزكية مكي الوداعي