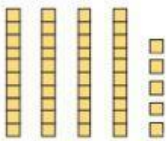


Objetivos: aplicar la relación entre adición y sustracción aplicando la familia de operaciones. Resolver adiciones y sustracciones en forma de algoritmo y en problemas

Nombre: _____

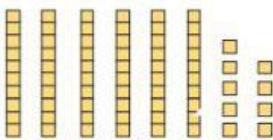
1.- Escribe la cantidad total y cuántas decenas y unidades hay.

1



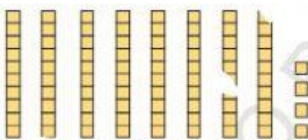
_____ decenas y _____ unidades

2



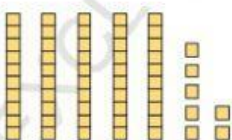
_____ decenas y _____ unidades

3



_____ decenas y _____ unidades

4



_____ decenas y _____ unidades

Resuelve las siguientes adiciones

	□	
	9	0
+		9
<hr/>		

	□	
	5	1
+		9
<hr/>		

	□	
		5
+	8	2
<hr/>		

Resuelva.

- 1 Inés tenía 35 flores en su jardín.
Plantó 7 flores más.
¿Cuántas flores tiene ahora en su jardín?



	□	

Ahora tiene ____ flores en su jardín.

Sume los precios para saber cuánto debe gastar para comprar ambos objetos.

- 1  \$29  \$32

	□	
\$		
+	\$	
\$		
\$		

- 2  \$45  \$27

	□	
\$		
+	\$	
\$		
\$		

- 3  \$79  \$17

	□	
\$		
+	\$	
\$		
\$		

Completa los valores para completar las familias de operaciones inversas

1

$6 + 8 = \underline{\quad}$

$14 - 8 = \underline{\quad}$

$8 + 6 = \underline{\quad}$

$14 - 6 = \underline{\quad}$

2

$5 + 8 = \underline{\quad}$

$13 - 8 = \underline{\quad}$

$8 + 5 = \underline{\quad}$

$13 - 5 = \underline{\quad}$

3

$9 + 2 = \underline{\quad}$

$11 - 9 = \underline{\quad}$

$2 + 9 = \underline{\quad}$

$11 - 2 = \underline{\quad}$


Resuelva los siguientes problemas completando el signo y el total

Hay 7  en el estuche.

Juan guarda 9  más.

¿Cuántos  hay ahora en el estuche?

$\boxed{7} \bigcirc \boxed{9} = \boxed{\quad} \text{  }$

La profesora tiene 16 .

Reparte 9  a los niños.

¿Cuántos  tiene ahora?

$\boxed{16} \bigcirc \boxed{9} = \boxed{\quad} \text{  }$

Hay 3  en el aire.
Saltan 4  del avión.

¿Cuántos  hay ahora en el aire?

$$\boxed{3} \bigcirc \boxed{4} = \boxed{}$$

Hay 7  bajo el agua.

3  suben a la superficie.

¿Cuántos  quedan bajo el agua?

$$\boxed{7} \bigcirc \boxed{3} = \boxed{}$$

Reste y anote cuánto queda.

1

	D	U
	4	3
-	3	1

2

	D	U
	3	3
-	1	3

3

	D	U
	2	6
-	1	4

4

	D	U
	7	7
-	2	3

1 Marta tenía \$74. Compró un lápiz. ¿Cuánto dinero le quedó?



	D	U
-		

Le quedaron \$ _____

2 Luisa tenía \$85. Compró un botón. ¿Cuánto dinero le quedó?



	D	U
-		

Le quedaron \$ _____