

EVALUACION SUMATIVA II SEMESTRE HISTORIA GEOGRAFÍA y C.S.
“LA HERENCIA CULTURAL ROMANA”

Nombre		N° de lista	
Curso	3° BÁSICO	Fecha	8-10-2021
Objetivo de Aprendizaje Nivel 1			
OA 3: Explicar, con ejemplos concretos, cómo diferentes culturas y pueblos (como griegos y romanos de la Antigüedad) han enfrentado de distintas maneras el desafío de desarrollarse y satisfacer las necesidades comunes a todos los seres humanos.			
Contenidos		Habilidades	
Arquitectura romana, la importancia de la calzada, construcción de templos, acueductos y la importancia del latín.		Conocer, comprender, analizar, leer, relacionar.	

Instrucciones: Lea con atención cada pregunta antes de responder. La presente evaluación consta de 24 puntos en total, bajo un 60% de exigencia. El puntaje mínimo de aprobación es de 14 puntos para obtener nota 4.0. mucho éxito!!!

I.- item de verdadero y falso, marque la alternativa (V o F) según corresponda. 1 Pnt. c/u

V	F	Los romanos crearon el hormigón
V	F	Los desechos de baños romanos se van a la calle
V	F	Los caminos romanos poseen piedras con información, como las carreteras de hoy
V	F	La ciudad romana de Pompeya fue atacada y destruida por pueblos enemigos
V	F	Los caminos romanos estaban hechos de cemento


II.- Lea atentamente cada pregunta antes de responder y seleccione la alternativa correcta.

1.- ¿Por qué el latín es considerado nuestra lengua madre? (2 Pnt.)

- A) Es el idioma romano y ellos conquistaron gran parte de Europa
- B) Es el idioma del que nacen muchas lenguas, entre ellos el español
- C) Es el idioma más antiguo que se practica en Europa y gran parte del mundo

2.- ¿Por qué fue importante la enseñanza del latín a diferentes pueblos? (2 Pnt.)

- A) Porque muchas personas reciben educación
- B) Porque ayudo a muchas personas a entender las leyes romanas
- C) Porque permitió que muchos pueblos se entiendan al hablar un mismo idioma



3.- ¿Qué civilización construye el templo de la imagen? (1 Pnt.)

- A) Civilización grecorromana
- B) Civilización griega
- C) Civilización romana

4.- ¿Qué elementos de la construcción son herencia del mundo griego? (1 Pnt.)

- A) El material de construcción hormigón
- B) El uso de columnas que sostengan el peso
- C) El enorme tamaño del edificio

5.- ¿Qué elementos de la construcción son herencia del mundo romano? (1 Pnt.)

- A) El material de la construcción el hormigón
- B) El material de la construcción la roca
- C) El material de la construcción roca y madera



6.- ¿Qué tipo de construcción nos muestra la imagen? (1 Pnt.)

- A) Un acueducto romano
- B) Una calzada romana
- C) Una ciudad romana

7.- ¿cuál es la finalidad o intención de esta construcción? (1 Pnt.)


- A) Que los barcos puedan navegar
- B) Conducir agua a las ciudades
- C) Evitar crecidas e inundaciones

8.- ¿De qué material está hecha esta construcción? (1 Pnt.)

- A) Están hechas de hormigón
- B) Están hechas de barro y madera
- C) Están hechas de piedra

9.- ¿Con que se conecta esta construcción en la ciudad? (1 Pnt.)

- A) Las casas de los ricos
- B) Las casas de los pobres
- C) Baños públicos y fuentes de la ciudad



10.- ¿Qué construcción observamos en la imagen anterior? (1 Pnt.)

- A) El senado romano
- B) Una cocina publica
- C) Un baño publico

11.- ¿Que otra actividad desarrollan los romanos en este lugar? (1 Pnt.)

- A) Hacer sus necesidades y comerciar
- B) Hacer sus necesidades y dormir
- C) Hacer sus necesidades y socializar

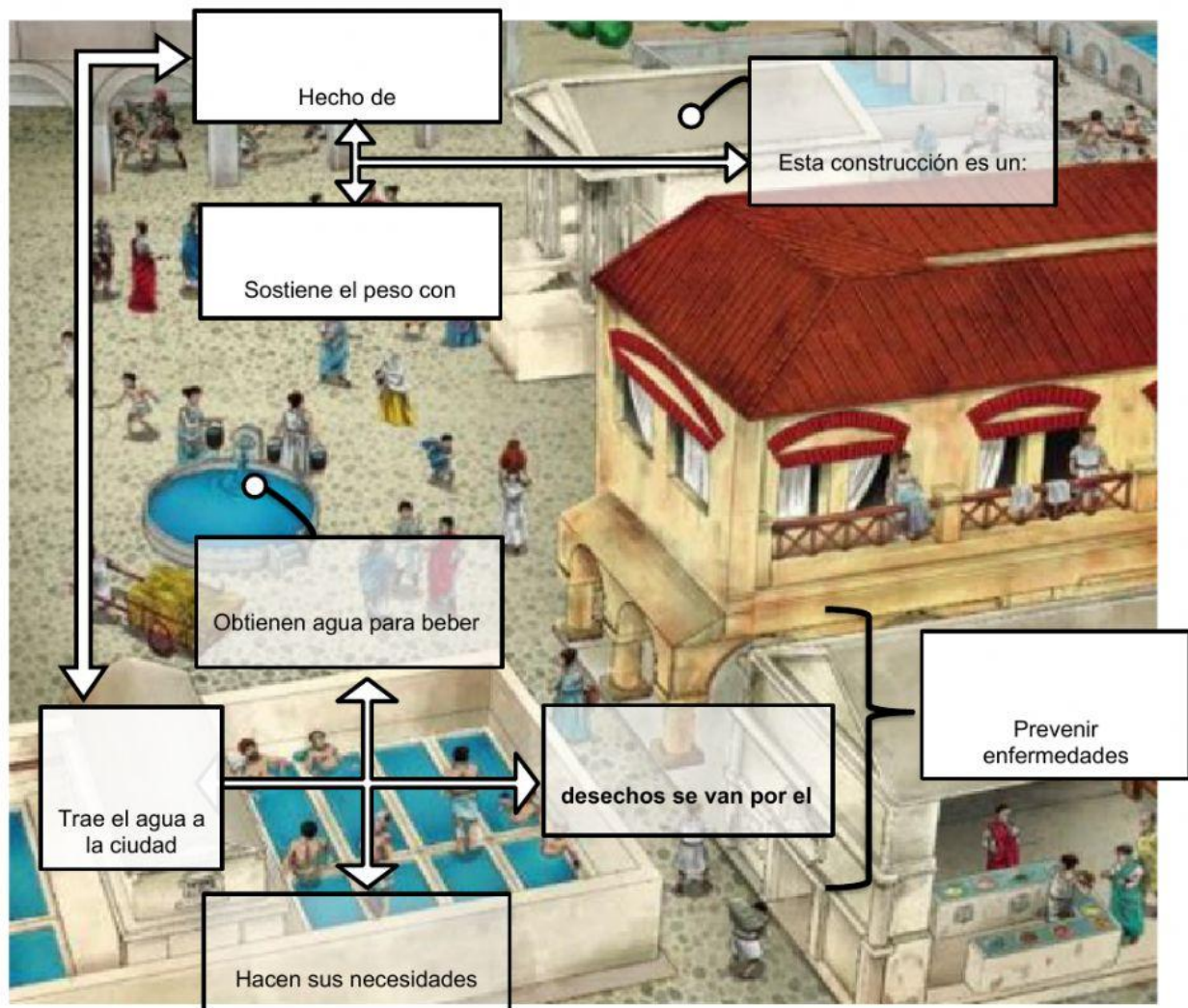
12.- ¿Qué pasa con los desechos de este lugar? (1 Pnt.)

- A) Son desechados por la cloaca o alcantarillado
- B) Son desechados por tubos hacia las calles de roma
- C) Son desechados por cubetas transportadas a un pozo

13.- ¿Qué problema se evita roma con la construcción de baños públicos? (1 Pnt.)

- A) Evita que las calles estén sucias
- B) Evita que la gente sufra por no tener baño
- C) Evita la suciedad, infecciones y enfermedades

III.- observe el siguiente esquema incompleto sobre las construcciones en roma, lea las pistas en cada cuadro y complete el esquema con la información de la tabla bajo la imagen. (4 Pnt.)



Acueducto	Buena higiene
Columnas	Alcantarillado
Fuentes	Hormigón
Templo	Baños públicos