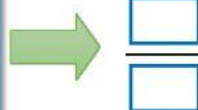
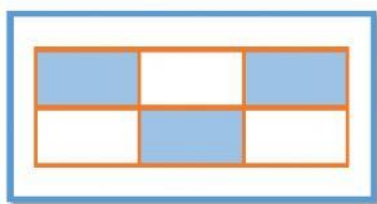


# EVALUACIÓN DE FRACCIONES GRADO TERCERO

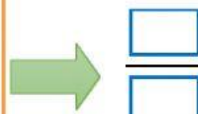
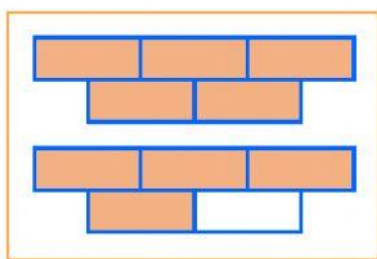
Nombre: \_\_\_\_\_

1. Observa cada gráfica, escribe la fracción correspondiente, selecciona si es propia o impropia y escribe su lectura.



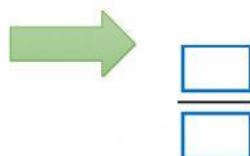

Propia  
Impropia

Lectura: \_\_\_\_\_




Propia  
Impropia

Lectura: \_\_\_\_\_



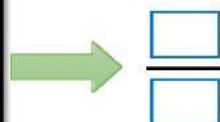
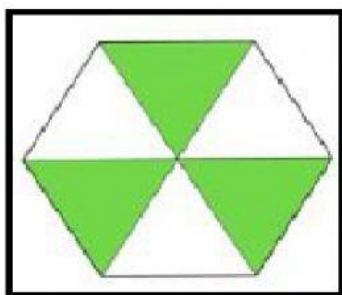
Propia  
Impropia

Lectura: \_\_\_\_\_



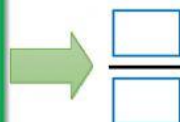
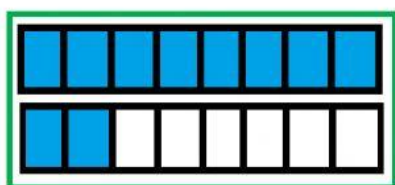
Propia  
Impropia

Lectura: \_\_\_\_\_



Propia  
Impropia

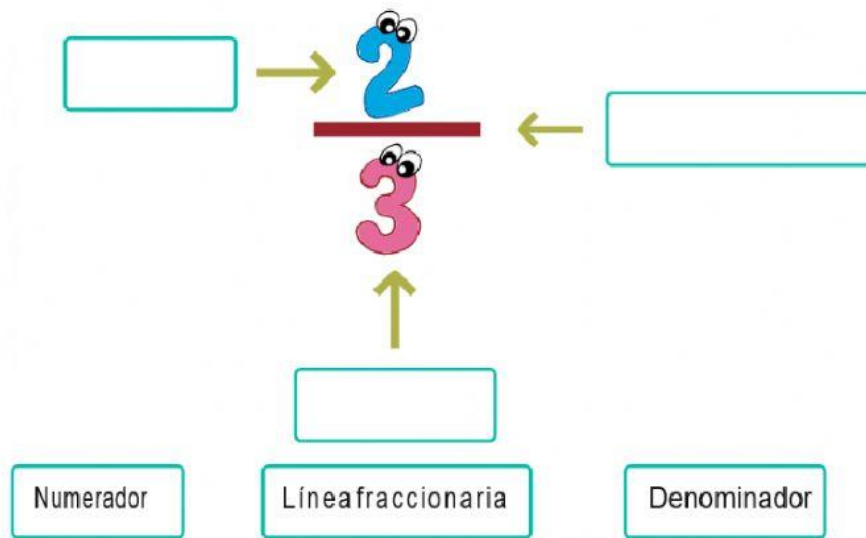
Lectura: \_\_\_\_\_




Propia  
Impropia

Lectura: \_\_\_\_\_

2. Coloca los elementos que le corresponde a la fracción.



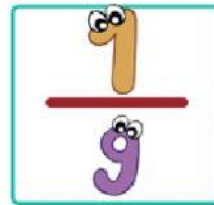
3. Escribe la lectura de las siguientes fracciones.



Respuesta:



Respuesta:



Respuesta:



Respuesta: