

Guía de Aprendizaje "El centímetro (CM) y metro (M)"

Objetivo:

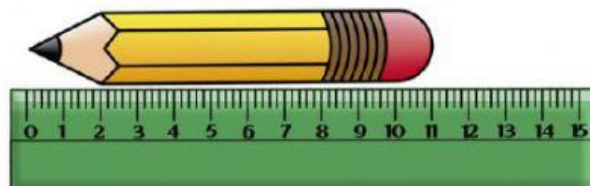
Determinar la longitud de objetos, usando unidades de medidas estandarizadas (cm y m), en el contexto de resolución de problemas.

Actividades



1.- Selecciona la alternativa correcta estimando el tamaño de los objetos.

a.- ¿Cuánto mide este lápiz?



a.- 10 cm.

b.- 11 cm.

c.- 9 cm.

b.- Se mide el contorno del patio del colegio. Primero se mide con palitos de fósforo y luego, con palitos de helados.



Es cierto que:

a.- El patio mide lo mismo en fósforos que en palos de helado.

b.- El patio mide menos palos de fósforos que de helado.

c.- El patio mide más fósforos que palos de helado.

c.- Estima cuánto medirá cada objeto en la realidad, marca la alternativa correcta:



A.- 3 Centímetros.

B.- 3 metros.



A.- 2 Metros.

B.- 2 Centímetros.



A.- 10 Metros.

B.- 10 Centímetros.



A.- 5 Centímetros.

B.- 5 metros.



A.- 15 Metros.

B.- 15 Centímetros.

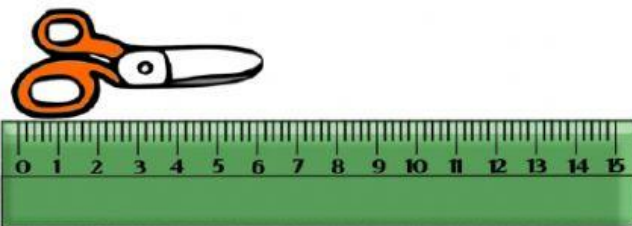
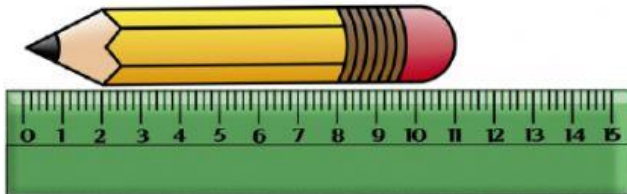


A.- 10 Metros.

B.- 10 Centímetros.

2.- Compara objetos de acuerdo a su medida y tamaño.

D.- ¿Cuánto más mide el lápiz que la tijera?



a.- 11 centímetros.

b.- 5 centímetros.

c.- 6 centímetros.

3.- De los siguientes animales. ¿Cuál es el más largo?



Vaca



Perro



Tortuga

a.- Tortuga.

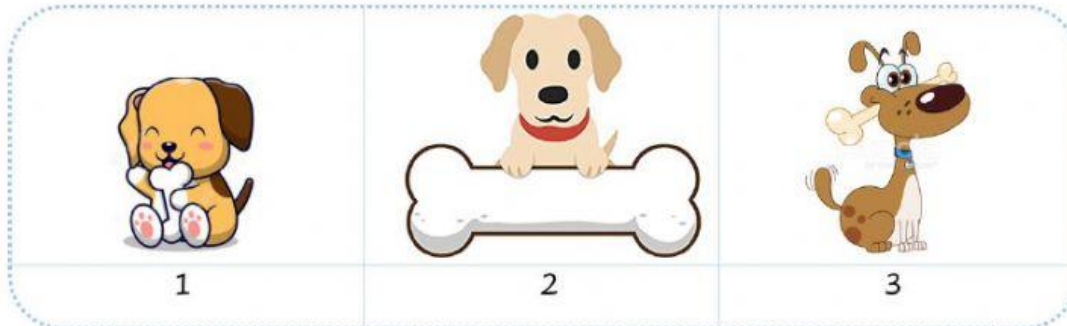
b.- Vaca.

c.- Perro.

4.- Selecciona los objetos que midan menos que un libro.



5.- ¿Cuál es el orden del hueso más largo al más corto?



a.- 1-3-2.

b.- 3-2-1.

c.- 2-3-1.

6.- Resuelve los siguientes problemas midiendo longitudes.

E.- Cristina tiene tres cuadrados A, B y C. El cuadrado A mide 7 palos de helado de largo, el cuadro B mide 5 palos de helados de largo y el cuadro C mide 12 palos de helados de largo.

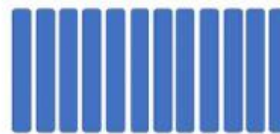
¿Cuál es el orden de los cuadros del más corto al más largo?



A



B




C

a.- A, B, C.

b.- B, A, C.

c.- C, B, A.

F.- La regla de Carlos mide la mitad de la de Vicente:



- a.- La regla de Carlos mide 20 cm.
- b.- La regla de Carlos mide 40 cm.
- c.- La regla de Carlos mide 80 cm.

G.- Don Jacinto quiere sembrar una hilera de zanahorias en su jardín que tiene 12 metros de largo. Tiene sembrado 8 metros. ¿Cuántos metros le faltan por sembrar?

- a.- 20 metros.
- b.- 2 metros.
- c.- 4 metros.

