



Jueves 07 de octubre de 2021

EVALUACIÓN BIMESTRAL DE RAZONAMIENTO MATEMÁTICO

NIVEL 2

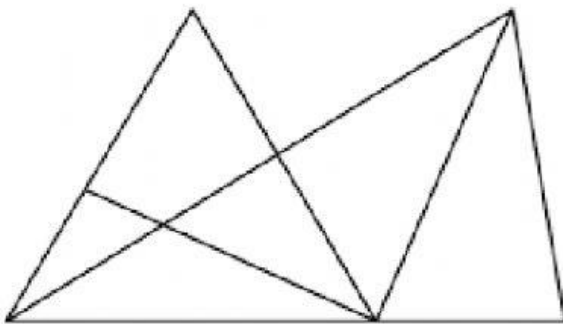
1. ¿Cuántos billetes de 50 soles equivalen a 500 soles?

Respuesta: _____

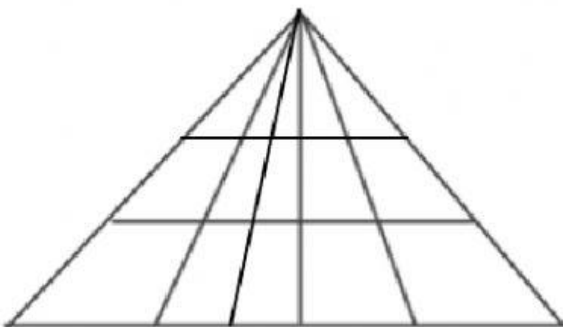
2. Si Valeria tiene 5 billetes de 20 soles y gastó 65 soles, ¿cuánto dinero le queda?

Respuesta: _____

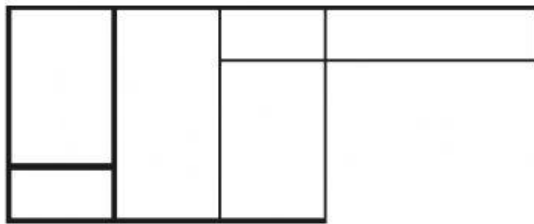
3. ¿Cuántos triángulos hay en total?



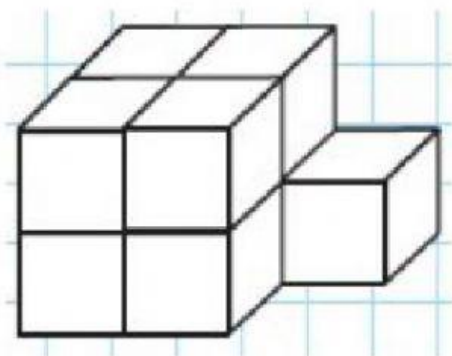
4. ¿Cuántos triángulos en total hay en la figura?



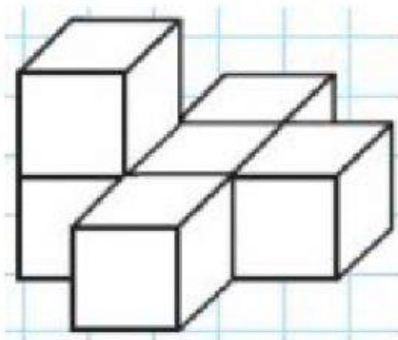
5. ¿Cuántos cuadriláteros hay en la figura?



6. ¿Cuántos cubos simples hay en la siguiente figura?



7. ¿Cuántos cubos simples hay en la siguiente figura?



Prof. César F. Huamaní Ayala