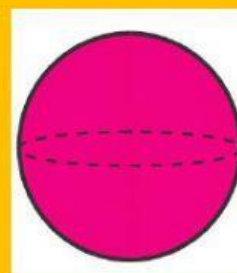

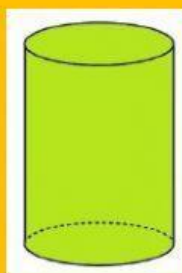


CUERPOS REDONDOS

1. Escribe verdadero o falso según corresponda.

- Los cuerpos redondos son cuerpos geométricos con alguna superficie curva. _____
- La sombra que proyecta un cilindro es un cuadrado. _____
- Un cono está formado por base, vértice y superficie lateral curva. _____

2. Une cada cuerpo redondo con las partes que lo componen.



BASE, VÉRTICE Y
SUPERFICIE LATERAL
CURVA

SUPERFICIE LATERAL
CURVA

BASE (2) Y SUPERFICIE
LATERAL CURVA

3. ¿Cuáles de estos objetos son cuerpos redondos?

