
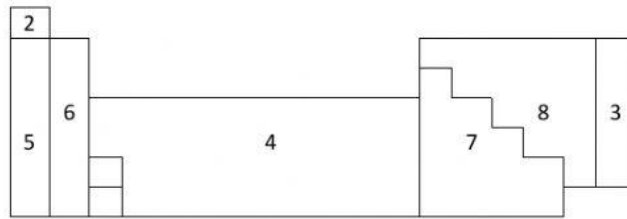


División De Los Elementos De La Tabla Periódica

Nombre: _____

1. Escribe el nombre del grupo según el numero



1. _____
2. _____
3. _____

4. _____
5. _____
6. _____

7. _____
8. _____

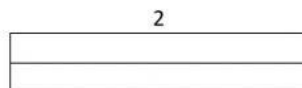
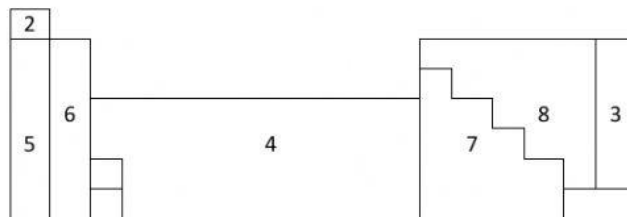
2. Lee las descripciones y escribe el grupo al que pertenece

- Es el elemento más ligero de la tabla periódica _____
- Estos elementos tienen nula radioactividad _____
- Estos elementos se comportan a veces como no metales _____
- Estos elementos son muy radioactivos _____

División De Los Elementos De La Tabla Periódica

Nombre: _____

3. Escribe el nombre del grupo según el numero



1. _____
2. _____
3. _____

4. _____
5. _____
6. _____

7. _____
8. _____

4. Lee las descripciones y escribe el grupo al que pertenece

- Es el elemento más ligero de la tabla periódica _____
- Estos elementos tienen nula radioactividad _____
- Estos elementos se comportan a veces como no metales _____
- Estos elementos son muy radioactivos _____