

Ficha 1: Pentagrama y claves



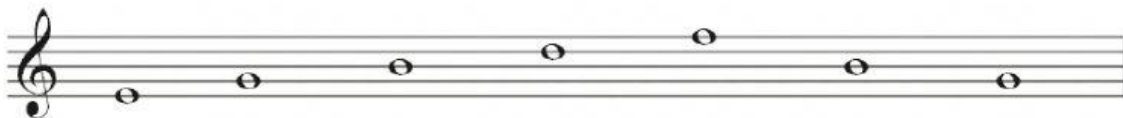
Después de ver los vídeos, haz los correspondientes ejercicios:

Ejercicio 1: ¿Qué dos cualidades del sonido son las representadas por las notas en un pentagrama?



Ejercicio 2: Numera las líneas y espacios del pentagrama.

LÍNEAS		ESPACIOS		
<input type="checkbox"/>	→	_____	←	<input type="checkbox"/>
<input type="checkbox"/>	→	_____	←	<input type="checkbox"/>
<input type="checkbox"/>	→	_____	←	<input type="checkbox"/>
<input type="checkbox"/>	→	_____	←	<input type="checkbox"/>
<input type="checkbox"/>	→	_____	←	<input type="checkbox"/>

Ejercicio 3: Escribe el nombre bajo las notas. Si te fijas, todas están en las líneas del pentagrama.



Ejercicio 4: Escribe el nombre bajo las notas. En esta ocasión, son las cuatro notas de los espacios.



Ejercicio 5: ¿Cuál es el nombre de las claves?

		
Clave de Sol	Clave de Fa	Clave de Do

Ejercicio 7: Escribe el nombre bajo las notas. ¡Ten cuidado! Hemos cambiado a clave de Fa en 4ª!

