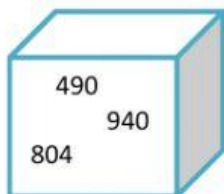


## Comparación de números de tres cifras.

1- Compara cada pareja de números. Utiliza el signo < o >.

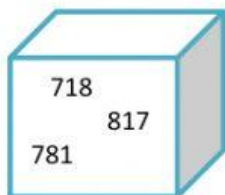
- 234 y 765 → \_\_\_\_\_
- 490 y 309 → \_\_\_\_\_
- 578 y 687 → \_\_\_\_\_
- 349 y 320 → \_\_\_\_\_
- 519 y 530 → \_\_\_\_\_
- 678 y 687 → \_\_\_\_\_
- 126 y 120 → \_\_\_\_\_
- 375 y 379 → \_\_\_\_\_

2- Escribe el número mayor y menor de cada caja.



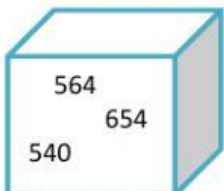
Mayor=\_\_\_

Menor=\_\_\_



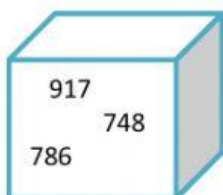
Mayor=\_\_\_

Menor=\_\_\_



Mayor=\_\_\_

Menor=\_\_\_



Mayor=\_\_\_

Menor=\_\_\_

### 3- Problemas, resuelve.

Alfredo ha ido con sus padres a comprar. Han cogido número den la carnicería, la pescadería y la frutería. El turno en cada puesto es el siguiente:



- En la carnicería han cogido el número 209. ¿Cuántos números le faltan para su turno? \_\_\_\_\_
- Alfredo y sus padres estaban en la frutería. Una señora llegó con el número 230 y un señor con el número 236. ¿A cuál de los dos se le había pasado el turno? \_\_\_\_\_
- Al final del día, en la pescadería dieron un total de 350 números. ¿Pudieron dar en la pescadería el número 349? \_\_\_\_\_
- Un día en la carnicería dieron un total de 200 números y en la frutería 250. Pudieron lar el número 185 en los dos puestos? \_\_\_\_\_

### 4- Razonamiento

**Piensa y contesta:** El máximo que se puede cargar en un ascensor es mayor que 450 kg y menor que 455 kg. La suma de las cifras del peso máximo es igual a 11. ¿Cuántos kilos se pueden cargar en el ascensor? \_\_\_\_\_

### 5- Ordena de mayor a menor y utiliza el signo correspondiente

- 650, 549, 329, 538 y 320      \_\_\_\_\_
- 834, 843, 984, 983 y 890      \_\_\_\_\_
- 918, 910, 890, 809 y 950      \_\_\_\_\_