

Name : _____ Class: _____

LATIHAN PENDALAMAN MATEMATIKA mata uang

A. Menemukan nilai tukar yang sesuai



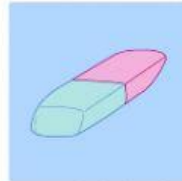
B. Mengurutkan benda sesuai dengan harganya



Rp1.200,00



Rp800,00



Rp1.800,00



Rp3.000,00



Rp4.500,00



Rp2.200,00



Rp2.500,00



Rp3.500,00

1. Urutan benda dengan harga paling murah adalah

1

2

3

4

5

6

7

8

Pilihlah jawaban yang tepat pada kotak merah!

2. Benda yang paling mahal adalah

3. Benda yang paling murah adalah ...

4. Ino membawa uang empat ribu rupiah.

Barang yang dapat ia beli adalah ...

5. Ino akan membeli 1 pensil, 1 penghapus dan 1 rautan.

Uang yang dibutuhkan Ino adalah Rp ...

rautan

stabilo &

Rp3.800,00

bolpoin &





gunting

penghapus

Rp2.800,00

penghapus

C. Pasangkan benda sesuai dengan harganya!



~ GOOD JOB! ~