



AÑO ESCOLAR 2021 –III BIMESTRE
EXAMEN BIMESTRAL DE MATEMÁTICA



Nombre del Estudiante:			Grado y Sección	2º "A"
Área:	MATEMÁTICA		Fecha de evaluación:	05– 10 - 21
Nivel:	PRIMARIA	Nombre del Docente:	GLORIA ROJAS TORRE	

I MARCA LA RESPUESTA CORRECTA

1. Mi vecina compra 3 kilos de naranjas y 5 kilos de peras. Mi mamá compra 5 kilos de manzana y 8 kilos de peras.
¿Cuántos kilos de peras compran entre las dos?




a 31

b 18

c 13

d 21

2. Observa el cuadro y responde. **¿Cuántas flores sembró Luis más que Ana?**

LUIS	
ANA	
MARÍA	

a 18

b 12

c 6

3.- María, José y Lucas recogieron flores: María recogió 14 flores, José recogió 1 decena de flores y Lucas recogió 16. **¿Cuántas flores recogieron los varones?**

- a 15 flores
- b 17 flores
- c 26 flores
- d 24 flores



4. En un carro escolar subieron 28 estudiantes. Luego, se bajaron 6 estudiantes en el paradero de Ventanilla. Después se subieron 9 estudiantes. **¿Cuántos estudiantes hay ahora en el carro escolar?**

- a 37
- b 22
- c 31
- d 34



5. Carlos tiene 23 fichas. Luego guardó algunas fichas en una bolsa, dejando las demás en la mesa. Observa:



• ¿Cuántas fichas guardó Carlos en la bolsa?

a 11

b 12

c 23

d 25

6. Cecilia compró 15 globos. Por esta compra le regalaron algunos globos. Ahora Cecilia tiene 22 globos en total.

¿Cuántos globos le regalaron a Cecilia?

a 12 globos

b 13 globos

c 7 globos

d 37 globos



7. En una caja hay 9 cepillos y en otra caja 11 cepillos. La profesora desea repartir un cepillo a cada uno de sus 31 estudiantes. **¿Cuántos cepillos más necesitará?**

- a 20 cepillos
- b 18 cepillos
- c 11 cepillos
- d 10 cepillos

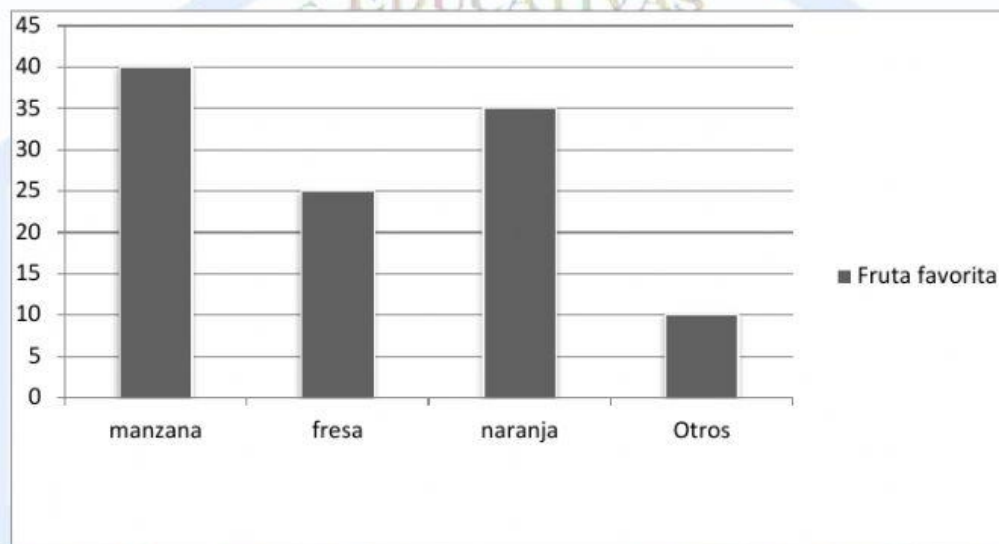


8. Carolina pagó S/. 30 soles por la compra de dos muñecas y una pelota. Cada muñeca le costó 12 soles. **¿Cuánto le costó la pelota?**

- a 28 soles.
- b 18 soles.
- c 42 soles.
- d 6 soles.



Observa el siguiente gráfico de barras de preferencias de un grupo de niños del segundo grado y responde las siguientes preguntas.



9. ¿Cuántos niños de segundo grado prefieren más la manzana que la fresa?

a. 5

b. 10

c. 15

10. ¿Cuántos niños de segundo grado prefieren la fresa menos que la naranja?

a. 5

b. 10

c. 15