



Nombre: _____

Fecha: _____

Grado: Segundo Año de E.G.B. Paralelo: " ____ "

Docente: Lic. María Mirabá Zavala

Asignatura: Computación


Selecciona las formas Poligonales que encuentres




círculo



corazón



triángulo




óvalo



cuadrado



rectángulo



estrella