



## แบบฝึกหัด 6.22

1) ชิด ✓ ใน  ที่มีข้อความสัมพันธ์กับภาพ

1) แก้ว



น้ำมีปริมาตรครึ่งแก้ว

น้ำมีปริมาตรเต็มแก้ว

2) กระบอก



น้ำมีปริมาตรเต็มกระบอก

น้ำมีปริมาตรมากกว่าครึ่งกระบอก

3) ชัน



น้ำมีปริมาตรเต็มชัน

น้ำมีปริมาตรน้อยกว่าครึ่งชัน


4) โถ



น้ำมีปริมาตรครึ่งโถ

น้ำมีปริมาตรน้อยกว่าครึ่งโถ

2) เปรียบเทียบปริมาตรของน้ำในภาชนะ โดยเขียนคำว่ามากกว่า น้อยกว่า หรือเท่ากับในช่องว่าง

1)  

.....  
.....

2)  

.....  
.....

3)  

.....  
.....

4)  

.....  
.....

5)  

.....  
.....

6)  

.....  
.....



## แบบฝึกหัด 6.23

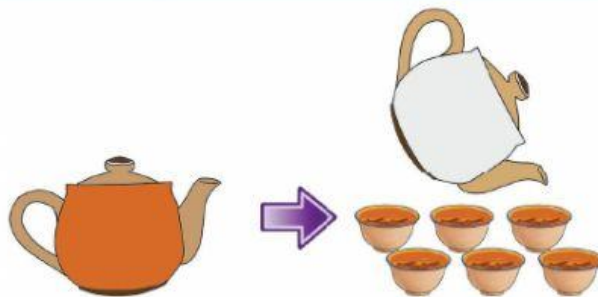
### 1 เขียนคำตอบในช่องว่าง

1)



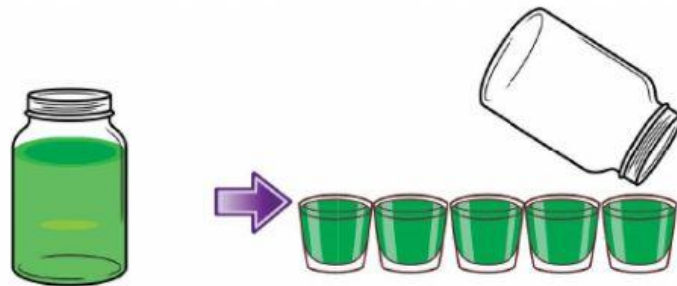
น้ำมีปริมาตร ..... แก้ว

2)



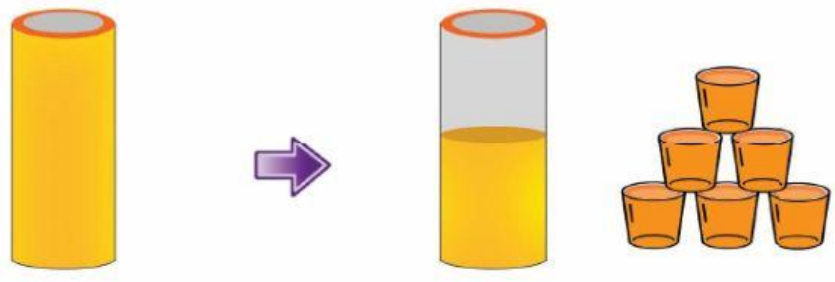
กาแฟมีปริมาตร ..... ถ้วย

3)



น้ำใบเตยมีปริมาตร ..... แก้ว

4)



น้ำส้มเต็มเหยือกมีปริมาตร ..... แก้ว

5)



นมข้นจืดกระป๋องเล็กมีปริมาตร ..... แก้ว



นมข้นจืดกระป๋องใหญ่มีปริมาตรเท่ากับนมข้นจืดกระป๋องเล็ก ..... กระป๋อง

ดังนั้น  นมข้นจืดกระป๋องใหญ่มีปริมาตร ..... แก้ว