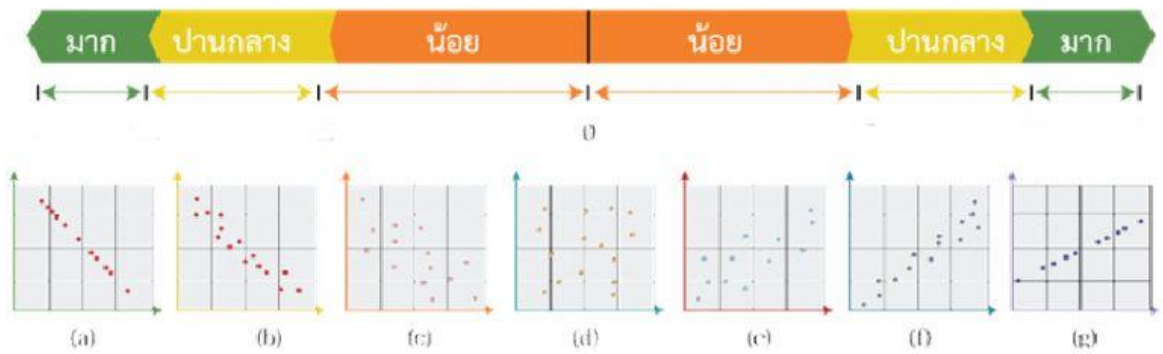


ใบงานประกอบรายวิชาวิทยาการคำนวณ ระดับชั้นมัธยมศึกษาปีที่5

เรื่อง การทำนายเชิงตัวเลข

ชื่อ - สกุล..... ชั้น..... เลขที่.....

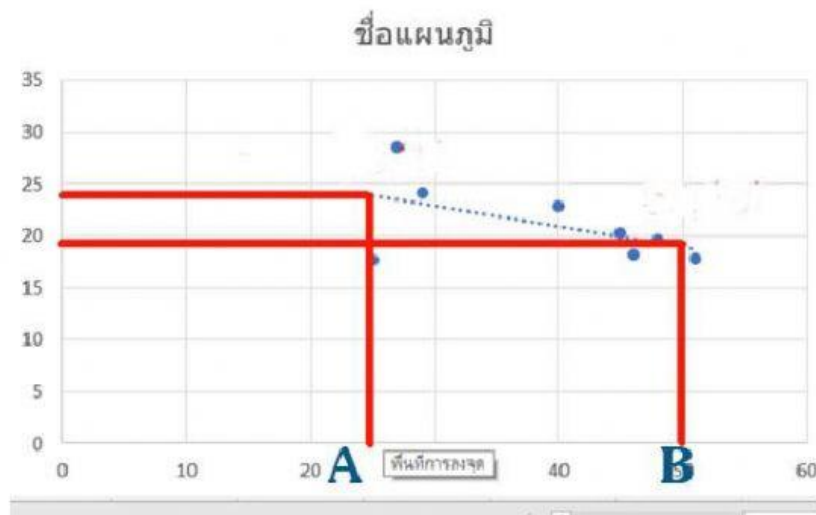
คำชี้แจง ให้นักเรียนเติมคำลงในช่องว่างให้ถูกต้อง



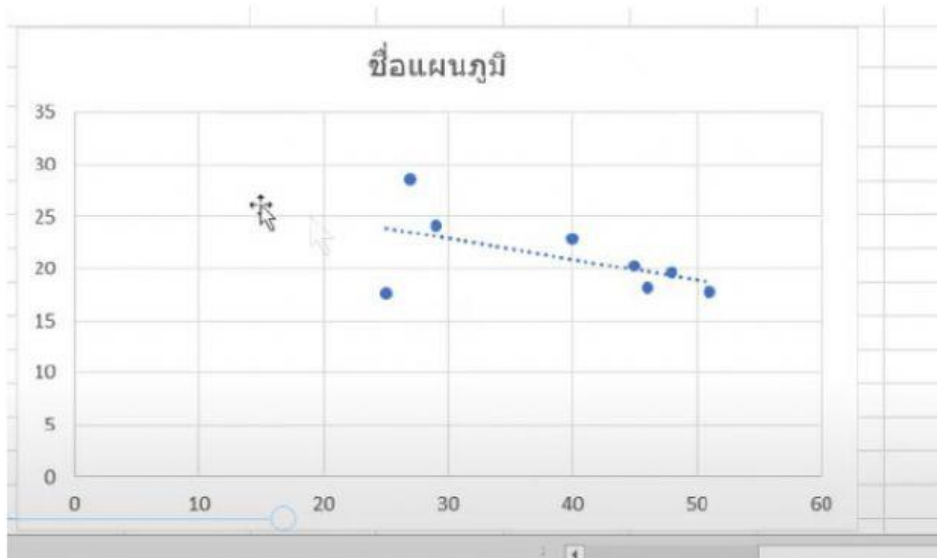
การทำนายเชิงตัวเลข

กำหนดให้ **A** คือจุดที่ 1 **B** คือจุดที่ 2

จงหา **x1,y1** และ **x2,y2**



จากรูปภาพข้างล่าง จุดตัดแกน y มีค่า =

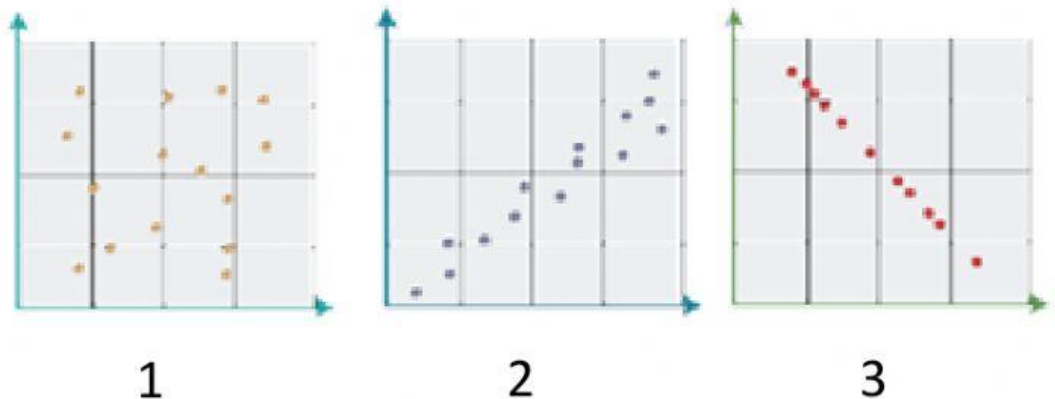


สูตรการหาค่าความชันคือ $m = \dots\dots\dots$

สูตรการหาค่า C หรือ จุดตัดแกน y (y -intercept) หาได้จาก $y = \dots\dots\dots$

การตรวจสอบความคาดเคลื่อน คำนวณได้จาก

จากกราฟให้อธิบายความสัมพันธ์เป็นความสัมพันธ์แบบใดโดยนำหมายเลขเติม
ในช่องว่าง



ไม่มีความสัมพันธ์

ความสัมพันธ์เชิงลบ

ความสัมพันธ์เชิงบวก

.....

.....

.....