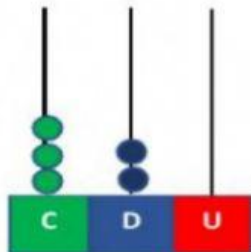


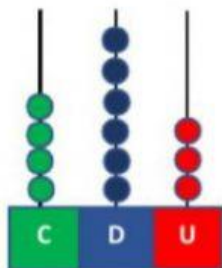
COLEGIO TÉCNICO MARÍA ELVINIA

GRADO: SEGUNDOS

NOMBRE: \_\_\_\_\_

1. Observa los siguientes ábacos y escribe el número que representa:






2. Completa el siguiente cuadro:

Descomposición	C	D	U	Como se lee
<b>300 + 50 + 9</b>				
	<b>8</b>	<b>6</b>	<b>5</b>	
				<b>Cuatrocientos cinco</b>

3. Realiza las siguientes adiciones:

$$233 + 417$$

C	D	U

$$544 + 138$$

C	D	U

$$126 + 315$$

C	D	U

4. Une como corresponda :

$9c + 7u + 5d$

435

$5u + 4c + 3d$

957

$2c + 7d + 8u$

719

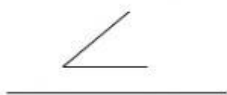
$1d + 9u + 7c$

278

5. Arrastra los números a su lugar correspondiente:

278

434



984

102

