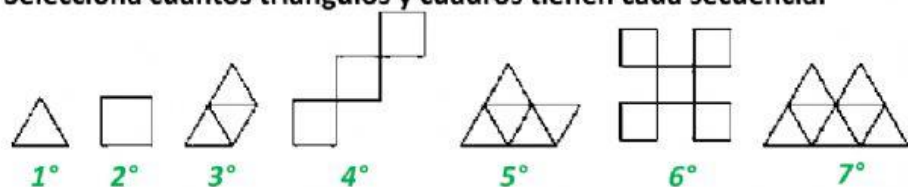
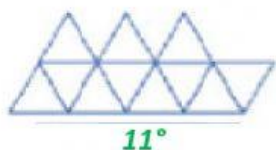
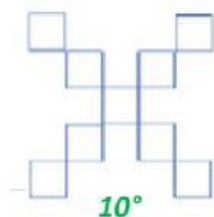


Selecciona cuántos triángulos y cuadros tienen cada secuencia.



8°

9°



12°



13°

Estas figuras forman parte de la sucesión anterior; anoten qué lugar ocupan.



Secuencia	triángulos	Secuencia	cuadros
1°	1	2°	1
3°	3	4°	3
5°	5	6°	5
7°	7	8°	
9°		10°	
11°		12°	
13°		14°	
15°		16°	
17°		18°	
19°		20°	
21°		22°	
23°		24°	