

Prueba Matemática 2º básico/ Capítulo 6
"Medición"

Nombre: _____

Fecha: _____ Curso: _____ Puntaje: _____

1. ¿Qué fecha es el segundo martes del mes?

SEPTIEMBRE						
LU	MA	MI	JU	VI	SA	DO
1	2	3	4	5	6	7
8	9	10	11	12	13	14
15	16	17	18	19	20	21
22	23	24	25	26	27	28
29	30					

- ☐ 9 de septiembre
- ☐ 16 de septiembre
- ☐ 23 de septiembre

2. Si las vacaciones empiezan el lunes 15 de septiembre y duran exactamente una semana, ¿qué día volverá a clases?

SEPTIEMBRE						
LU	MA	MI	JU	VI	SA	DO
1	2	3	4	5	6	7
8	9	10	11	12	13	14
15	16	17	18	19	20	21
22	23	24	25	26	27	28
29	30					

- ☐ 21 de septiembre
- ☐ 22 de septiembre
- ☐ 29 de septiembre

3. ¿Qué hora indica el reloj?



⋮

- ☐ 6:00
- ☐ 9:30
- ☐ 10:30

4. ¿Qué hora indica el reloj?



Son las ____ en punto.

- ☐ Son las 2 en punto
- ☐ Son las 3 en punto
- ☐ Son las 12 en punto

5. Lee el problema y responde.

Lucía empezó a ver una película a las 6:00. Si duró 2 horas, ¿a qué hora terminó?



☐ A



☐ B



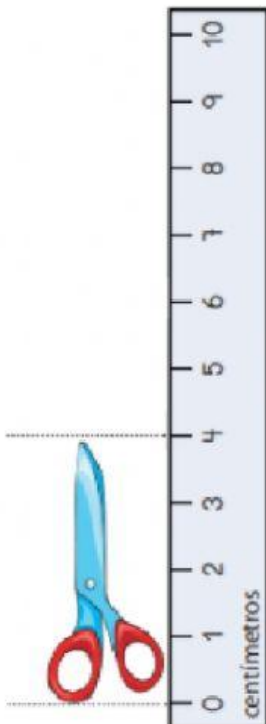
☐ C

6. ¿Cuántos cubos mide el lápiz?



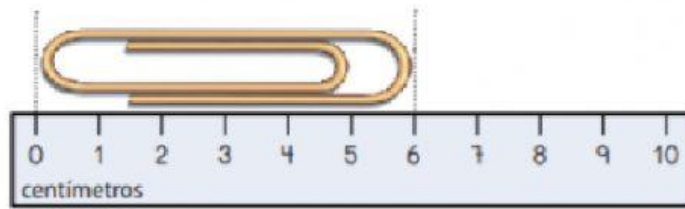
- ☐ 12 cubos
- ☐ 13 cubos
- ☐ 15 cubos

7. ¿Cuánto mide la tijera?



- ☐ 4 cm
- ☐ 5 cm
- ☐ 10 cm

8. ¿Cuánto mide el clip?



- ☐ 10 cm
- ☐ 7 cm
- ☐ 6 cm

9. Estima cuánto mide la longitud del auto.



- ☐ 2 cm
- ☐ 2 m
- ☐ 20 cm

10. Estima cuánto mide la longitud del vaso.



- ☐ 10 cm
- ☐ 10 m
- ☐ 1 m

11. ¿Cuánto más mide la cinta A que la B?



- ☐ 4 cm
- ☐ 13 cm
- ☐ 22 cm

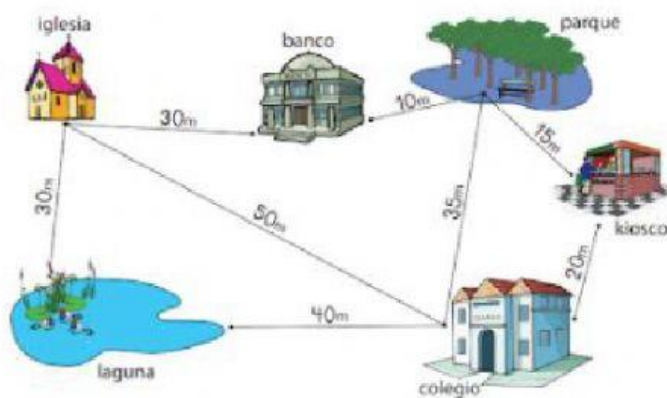
12. ¿Cuánto miden ambas cintas juntas?

A  13 cm

B  9 cm

- ☐ 4 cm
- ☐ 13 cm
- ☐ 22 cm

13. ¿Cuántos metros caminaré, si voy desde la iglesia al banco, del banco al parque y luego al kiosco?



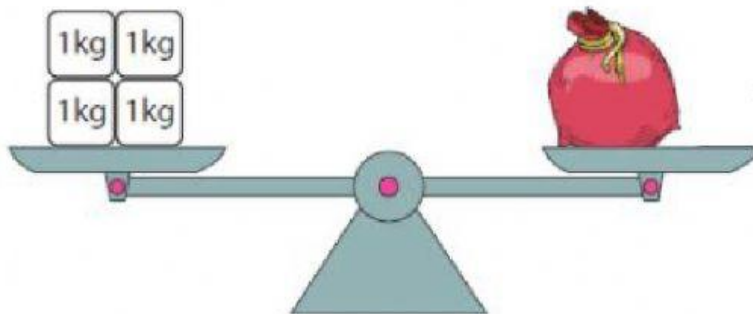
- ☐ 55 m
- ☐ 45 m
- ☐ 40 m

14. Estima el peso del triciclo.



- ☐ Menos de 1 kg
- ☐ Más de 1 kg
- ☐ Ninguna de las anteriores

15. Observa la balanza, ¿cuánto pesa el saco?



- ☐ 6 kg
- ☐ 4 kg
- ☐ 2 kg