

SABER DOMINGUISTA #1
FIRST GRADE
IV TERM

NAME: _____ GRADE: 1ST _____ PRIMERO: _____


CRITERIOS

Estimado estudiante. La siguiente prueba se basa en las competencias vistas en clase a partir de su trabajo personal realizado en las mismas. Para ello tenga en cuenta:

- Se evalúa las competencias de Razonamiento y Argumentación.
- Tener abierto tu correo institucional.
- Tener cámara y micrófono encendidos durante la prueba.
- Al finalizar revisa muy bien toda la prueba; luego da click en "TERMINADO".
- Toma un "Pantallazo o foto del envío" y guárdalo en tu computador.

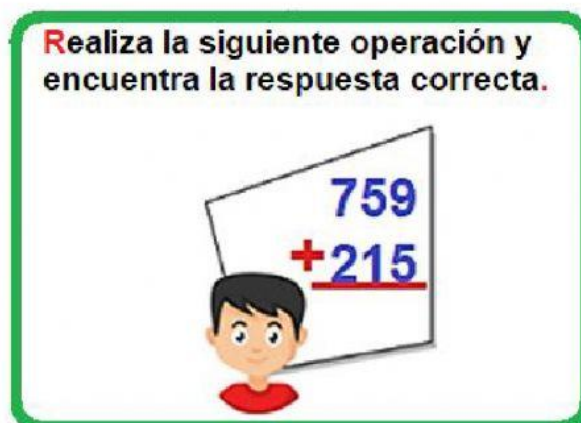
LEE CUIDADOSAMENTE Y RESPONDE

1. La profesora les pidió a Carlos, María y a Tatiana escribir la edad que tienen con una expresión numérica. Teniendo en cuenta los resultados de las operaciones ¿Quiénes son equivalentes según la edad?



Respuesta:

2. Ayuda a Pedro a resolver la siguiente adición y escribe también el resultado **en letras**.




Respuesta:

3. Observa y escribe los nombres de las manecillas del reloj.

HORARIO

MINUTERO

SEGUNDERO



4. Selecciona la hora en la que salió cada joven de viaje teniendo en cuenta la siguiente información.

Ana salió a las: _____
Tomás salió a las: _____



5. Relaciona con una línea los relojes que indican la misma hora.

