



LKPD



Klasifikasi Materi dan Perubahannya

Nama

Kelas

No. Abs

Petunjuk

1. Simaklah materi pembelajaran tentang materi Klasifikasi Materi dan Perubahannya pada PPT yang telah diberikan!
2. Jawablah soal pada LKPD di bawah ini!
3. Jika sudah selesai menjawab maka klik finish!

A. Menganalisis Partikel pada Zat

Analisislah susunan partikel zat dengan tepat!



Partikel Zat Padat



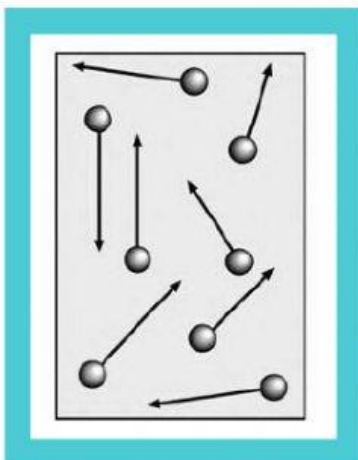


Partikel Zat Cair



Partikel Zat Gas

Seret dan tempellah gambar sesuai dengan klasifikasinya!



B. Mengklasifikasikan Zat Padat, Zat Cair, dan Zat Gas

Amatilah gambar di bawah ini!



Buatlah garis untuk mencocokkannya! (Menjodohkan)

Gelembung Udara

Batu

Air

Zat Padat

Zat Cair

Zat Gas

C. Menganalisis Contoh dalam Kehidupan Sehari-hari

Analisislah contoh unsur, senyawa, dan campuran dalam kehidupan sehari-hari!

Unsur

--	--

Senyawa

--	--

Campuran

--	--

Pilihlah gambar dengan menyeret dan tempel ke kolom di atas sesuai dengan arahan!



Selamat Mengerjakan