



Nama :

Kelas/presensi :

Pendalaman Materi Bahasa Indonesia

A. Pilihlah jawaban yang paling tepat!

1. rumahmu?

Kata tanya yang tepat untuk melengkapi kalimat di atas adalah...

- A. apa
- B. siapa
- C. di mana

2. pasar – Ino – menemani – ibu – ke

kalimat yang tepat dari kata yang diacak adalah...

- A. Ino menemani ibu ke pasar
- B. Pasar menemani Ibu ke Ino
- C. Ibu menemani pasar ke Ino

3. Ungkapan santun untuk menawarkan bantuan kepada orang lain adalah...

- A. "Suruh Ranti saja yang bawa, Bu."
- B. "Mari saya bantu membawakan barangnya, Bu."
- C. "Aku tidak kuat membawa barang ini, Bu."

4. Rumah Ino ada di ujung jalan.

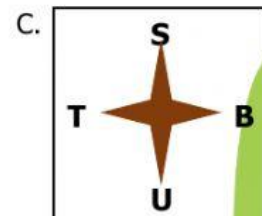
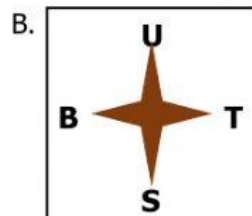
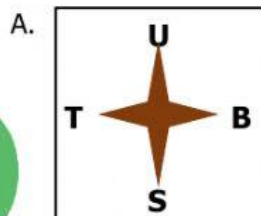
Kalimat tanya yang sesuai dengan jawaban di atas adalah...

- A. Siapa nama lengkap Ino?
- B. Di mana letak rumah Ino?
- C. Pukul berapa Ino pulang ke rumah?

5. Kanan, kiri, depan, dan belakang adalah ... pada denah.

- A. kalimat
- B. berita
- C. petunjuk

6. Gambar arah mata angin yang benar ditunjukkan oleh...



7. Yang termasuk informasi pada denah adalah...

- A. ukuran rumah
- B. luas bangunan
- C. nama jalan

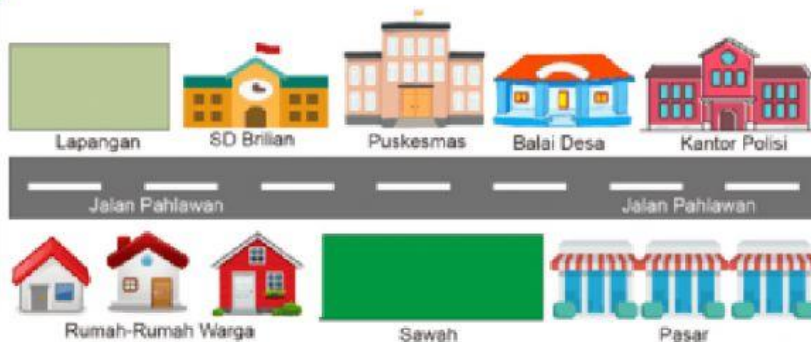
8. Kalimat yang tepat untuk meminta maaf adalah...
- "Maaf, saya lupa membawa buku."
 - "Memaafkan adalah sikap terpuji."
 - "Wah, seharusnya dia meminta maaf padaku."
9. Kalimat yang tepat untuk penjual menawarkan dagangannya adalah...
- "Mari, Dik. Kuenya murah tapi enak, seribu saja."
 - "Bu, saya ingin beli kue."
 - "Pak, kuenya berapa, ya?"
10. Penggalan kata **belajar** adalah...
- be – la – jar
 - bel – a – jar
 - bela – jar
11. Penggalan kata **dagangan** adalah...
- dag – gang – an
 - da – gang – an
 - dagang – an
12. Perhatikan denah di bawah ini!



Bangunan masjid terletak di Jalan...

- Dahlia
- Jalan Melati
- Jalan Kenanga

13. Perhatikan gambar denah di bawah ini!



Kantor Polisi terletak di sebelah ... Balai Desa

- A. kanan
- B. kiri
- C. seberang

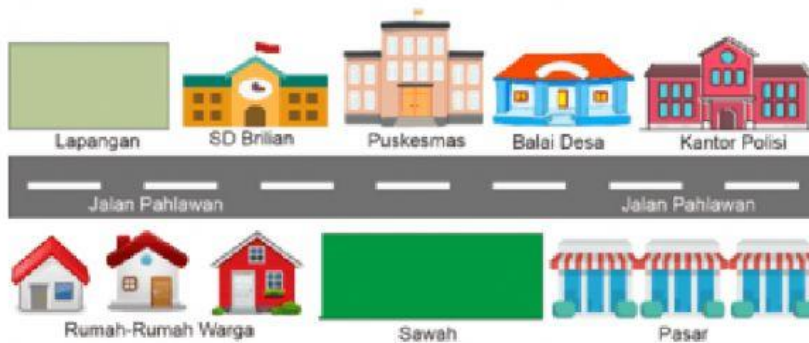
14. Perhatikan gambar denah di bawah ini!



Rumah Karin terletak di sebelah kanan rumah...

- A. Anita
- B. Sinta
- C. Bayu

15. Perhatikan gambar denah di bawah ini!



Bangunan di antara Puskesmas dan Kantor Polisi adalah...

- A. Sawah
- B. Jalan Pahlawan
- C. Balai Desa