



แบบทดสอบก่อนเรียน วิชา คณิตศาสตร์ รหัสวิชา ค11101
แบบทดสอบแบบเลือกคำตอบ จำนวน 8 ข้อ ข้อละ 1 คะแนน
ชั้นประถมศึกษาปีที่ 1 ภาคเรียนที่ 2 ปีการศึกษา 2563

ชื่อ.....เลขที่.....

คะแนน

คำชี้แจง ให้นักเรียนอ่านคำถาม แล้วกา **X** ทบคำตอบที่ถูกต้องที่สุด **เพียงข้อเดียว**

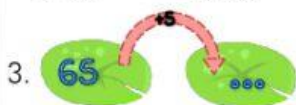
1. ข้อใดให้ความหมายของคำว่า "การนับเพิ่มทีละ 5" ได้ถูกต้อง

- ก. นำเลข 1 มาบวกเพิ่มกับตัวเลขเริ่มต้น
- ข. นำเลข 2 มาบวกเพิ่มกับตัวเลขเริ่มต้น
- ค. นำเลข 5 มาบวกเพิ่มกับตัวเลขเริ่มต้น



จากรูปจะต้องเติมเลขใด

- ก. 60
- ข. 65
- ค. 70



จากรูปจะต้องเติมเลขใด

- ก. 60
- ข. 70
- ค. 800



จากรูปจะต้องเติมเลขใด

- ก. 70 สิบเจ็ด
- ข. 80 แปดสิบ

- ค. 70 เจ็ดสิบ



จากรูปจะต้องเติมเลขใด

- ก. 80
- ข. 85
- ค. 95

6.

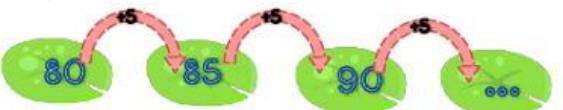


จากรูปจะต้องเติมเลขใด

- ก. 60
- ข. 70

- ค. 75

7.



จากรูปจะต้องเติมเลขใด

- ก. 55
- ข. 60

- ค. 95

8.



จากรูปจะต้องเติมเลขใด

- ก. 70
- ข. 80

- ค. 100



ใบงานความรู้ วิชา คณิตศาสตร์ รหัสวิชา ค11101
แบบทดสอบแบบเลือกคำตอบ จำนวน 5 ข้อ ข้อละ 1 คะแนน

ชั้นประถมศึกษาปีที่ 1 ภาคเรียนที่ 2 ปีการศึกษา 2563
ชื่อ.....เลขที่.....

คะแนน

คำชี้แจง จงโยงเส้นให้สอดคล้องกับตัวเลขที่กำหนดให้ให้ถูกต้อง

-  65
-  85
-  60
-  80
-  100



แบบทดสอบหลังเรียน วิชา คณิตศาสตร์ รหัสวิชา ค11101
แบบทดสอบแบบเลือกคำตอบ จำนวน 8 ข้อ ข้อละ 1 คะแนน
ชั้นประถมศึกษาปีที่ 1 ภาคเรียนที่ 2 ปีการศึกษา 2563
ชื่อ.....เลขที่.....

คะแนน

คำชี้แจง ให้นักเรียนอ่านคำถาม แล้วกา **X** ทบคำตอบที่ถูกต้องที่สุด **เพียงข้อเดียว**

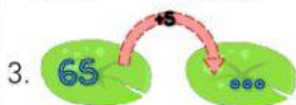
1. ข้อใดให้ความหมายของคำว่า "การนับเพิ่มทีละ 5" ได้ถูกต้อง

- ก. นำเลข 1 มาบวกเพิ่มกับตัวเลขเริ่มต้น
- ข. นำเลข 2 มาบวกเพิ่มกับตัวเลขเริ่มต้น
- ค. นำเลข 5 มาบวกเพิ่มกับตัวเลขเริ่มต้น



จากรูปจะต้องเติมเลขใด

- ก. 60
- ข. 65
- ค. 70



จากรูปจะต้องเติมเลขใด

- ก. 60
- ข. 70
- ค. 800



จากรูปจะต้องเติมเลขใด

- ก. 70 สิบเจ็ด
- ข. 80 แปดสิบ

- ค. 70 เจ็ดสิบ



จากรูปจะต้องเติมเลขใด

- ก. 80
- ข. 85
- ค. 95

6.



จากรูปจะต้องเติมเลขใด

- ก. 60
- ข. 70
- ค. 75

7.



จากรูปจะต้องเติมเลขใด

- ก. 55
- ข. 60
- ค. 95

8.



จากรูปจะต้องเติมเลขใด

- ก. 70
- ข. 80
- ค. 100