



PHIẾU BÀI TẬP TOÁN TUẦN 2

HỌ VÀ TÊN :

LỚP

: 2.10



1 2 3 4 5 6 7

1 Gọi tên các thành phần của phép tính

子

$$35 + 3 = 38$$



$$67 + 12 = 79$$



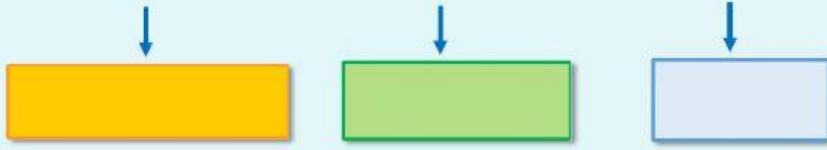
DREAM

LIVEWORKSHEETS

1 Gọi tên các thành phần của phép tính

子

$$5 + 64 = 69$$



$$13 + 11 + 10 = 34$$



DREAM



Bài 1: Tìm trứng cho gà mẹ



18



Tổng của
23 và 46



Tổng của
14 và 4



37



69



Tổng của
5 và 22



Bài 2: Số? (Theo mẫu)

Số hạng	17	22	20	80	28	0
Số hạng	22	17	80	20	0	28
Tổng	39	?	?	?	?	?

Activate Windows
Go to Settings to activate Windows.

4 Đúng ghi Đ, sai ghi S


Trong phép tính : $62 + 13 = 75$

a, 62 gọi là số hạng

b, 13 được gọi là tổng

c, 13 được gọi là số hạng

d, 75 được gọi tổng

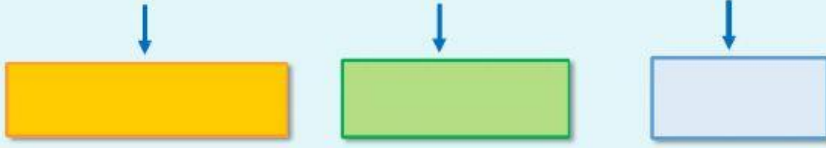


DREAM



1 Gọi tên các thành phần của phép tính

$$35 - 3 = 32$$



$$67 - 12 = 55$$



DREAM

4 Đúng ghi Đ, sai ghi S


Trong phép tính : $56 - 3 = 53$

a, 56 gọi là số trừ

b, 3 được gọi là số trừ

c, 53 được gọi là hiệu

d, 56 được gọi số bị trừ



DREAM





CHÚC MỪNG CÁC CON ĐÃ HOÀN
THÀNH PHIẾU BÀI TẬP TOÁN
TUẦN 2

1 2 3 4 5 6 7